

NOME DO ALUNO:	DATA: 07/12/2021	SEMANA: 38
PROFESSORAS: ADRIANA, TATIANE E MARILENA.	TURMA: JARDIM I A, B e C.	
CAMPO DE EXPERIÊNCIAS: ESPAÇOS, TEMPOS, QUANTIDADES, RELAÇÕES E TRANSFORMAÇÕES.		
OBJETIVO DE APRENDIZAGEM: (EIO3ET07) RELACIONAR NÚMEROS ÀS SUAS RESPECTIVAS QUANTIDADES E IDENTIFICAR O ANTES, O DEPOIS E O ENTRE EM UMA SEQUÊNCIA. (EIO3CG05) COORDENAR SUAS HABILIDADES MANUAIS NO ATENDIMENTO ADEQUADO A SEUS INTERESSES E NECESSIDADES EM SITUAÇÕES DIVERSAS.		

NATAL, TEMPO DE ESPERANÇA!



DISPONÍVEL EM: <https://br.pinterest.com/pin/378795018629773545/>

NESTE NATAL..

VAMOS APROVEITAR A COMPANHIA DE QUEM MAIS AMAMOS...

ASSISTAM AO VÍDEO (VARAL DE HISTÓRIAS) O PINHEIRINHO DE NATAL


<https://www.youtube.com/watch?v=kPhE1YSJ to>

ATIVIDADE 1:

FAÇA UM LINDO DESENHO DA PARTE DA HISTÓRIA QUE VOCÊ MAIS GOSTOU. UTILIZE O CADERNO DE DESENHO.

ATIVIDADE 2

DESENHE A QUANTIDADE DE BOLINHAS INDICADA EM CADA ÁRVORE.



5



7




3




6



2



9




4




1



8



5



3