

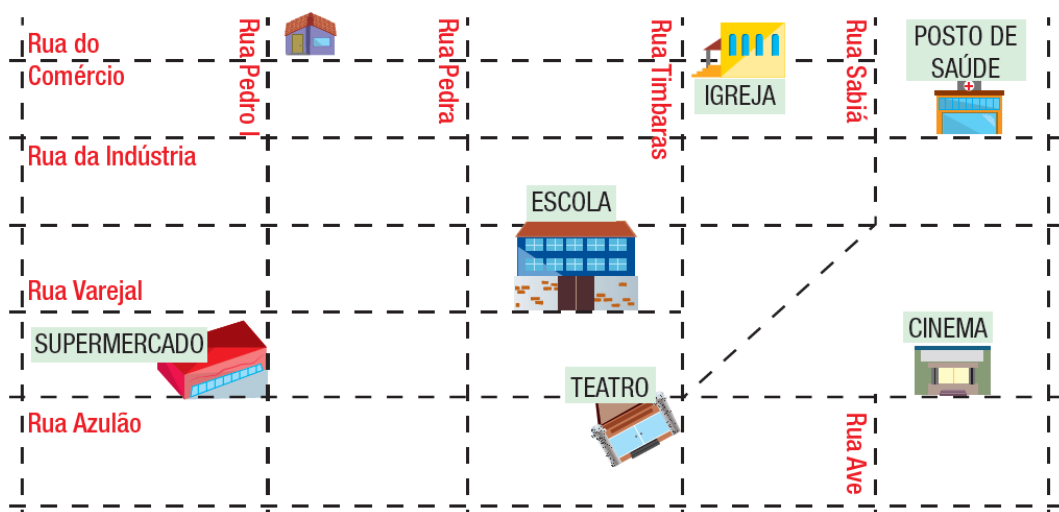
E.M. Professor Sebastião Vayego de Carvalho
Av. Ver. Rubens Mazieiro, 100 – Ouro Fino Paulista – CEP: 09442-700
Fone: (11) 4822-3137 / 4827-0948
E-mail: emvayego@hotmail.com

DISCIPLINA : MATEMÁTICA DIFERENCIADA
SEMANA 38 – 06 A 10/12/2021

NOME:	Nº:	SÉRIE: 7º _____
PROFESSOR(A): Rosangela Brunetti	CARGA HORÁRIA SEMANAL: 7	
ENVIAR PARA: CLASSROOM	DATA DE ENTREGA: 10/12/2021	
OBJETOS DE CONHECIMENTO/CONTEÚDO: Localização e movimentação: representação de objetos e pontos de referência.		
Habilidades: (EF03MA12) Descrever e representar, por meio de esboços de trajetos ou utilizando croquis e maquetes, a movimentação de pessoas ou de objetos no espaço, incluindo mudanças de direção e sentido, com base em diferentes pontos de referência.		
ESTRATÉGIAS E RECURSOS: MATERIAL EM PDF, VÍDEOS, WHATSAPP, CLASSROOM, GOOGLE MEET		
ORIENTAÇÕES: Ler o texto, copiar os exercícios no caderno e resolvê-los. Enviar cópia pelo classroom. ATENDIMENTO ON-LINE: 11H20H AS 12H20 – 2ª, 3ª, 5ª, 6ª		

PARA SE LOCALIZAR NAS RUAS

A professora Gabriela trouxe um mapa para a turma e explicou que as ruas são representadas por linhas tracejadas e cada esquina é representada pelo encontro de duas ruas.

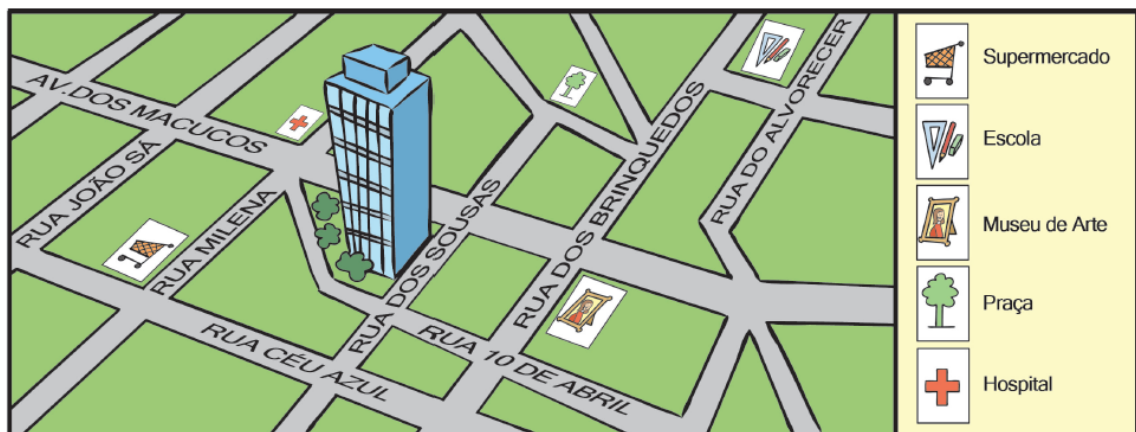


Observe o mapa e ajude os alunos, respondendo às perguntas em seu caderno.

- 1.** Sabendo que Diego mora na rua do Comércio, esquina com a rua Pedro I, responda:
 - a) Se ele sair de sua casa e andar duas quadras na rua do Comércio, para a direita, onde chegará? _____
 - b) Da igreja, se ele prosseguir pela rua Timbaras e andar quatro quadras, onde chegará? _____
 - c) Saindo de casa e andando pela rua Pedro I, quantas quadras precisa andar para chegar ao supermercado? _____
- 2.** Responda em seu caderno: A casa de Diego está mais próxima do cinema ou da escola? _____

LOCALIZAÇÃO

- 1.** Diego trouxe para a classe um folheto de propaganda que anuncia a venda de apartamentos em um prédio de cor azul e no qual é apresentado um mapa de localização, reproduzido na figura a seguir:



- escolha a alternativa correta que indica a localização do prédio azul.
 - a) Na esquina da rua Milena com a rua Céu Azul.
 - b) Na esquina da avenida dos Macucos com a rua dos Sousas.
 - c) Na esquina da avenida dos Macucos com a rua João Sá.
 - d) Na esquina da rua Milena com a rua dos Sousas.

2. Observe esta ilustração que mostra algumas ruas de uma cidade.

● **Responda:**

- a) O horto fica em um terreno atrás do prédio da Prefeitura.
() Falso () Verdadeiro
- b) O posto de saúde fica em um quarteirão muito distante da Prefeitura.
() Falso () Verdadeiro
- c) O posto de saúde fica em um quarteirão entre a Prefeitura e o horto.
() Falso () Verdadeiro
- d) O menino e seu cãozinho estão caminhando na quadra do horto.
() Falso () Verdadeiro





Secretaria de Educação
Avenida Prefeito Valdirio Frisco, 193
Jardim Itacotomby
sec@ribeirampires.sp.gov.br
(11) 4828-9600/ 4825-9270

E.MProfessorSebastiãoVayego de Carvalho

Av. Ver.Rubens Mazieiro, 100 – Ouro

Fino Paulista –CEP: 09442-700Fone:

(11) 4822-3137/ 4827-0948


E-mail: emvayego@hotmail.com

DISCIPLINA CIÊNCIAS –Adaptada- SEMANA 38–06/12 a 10/12

NOME:		Nº:	SÉRIE: 7º ANO
PROFESSOR(A): Edna		CARGA HORÁRIA SEMANAL: 4 AULAS	
ENVIAR PARA: google Classroom.		DATA DE ENTREGA: Sem entrega.	
	OBJETOS DE CONHECIMENTO/CONTEÚDO : Terra e Universo		
	HABILIDADES:(EF07CI13A) Identificar e descrever o mecanismo natural do efeito estufa e seu papel fundamental para o desenvolvimento da vida na Terra.		
	ESTRATÉGIAS E RECURSOS: Atividade que abrange conteúdo a ser trabalhado.		
	ORIENTAÇÕES : Responder e colar ou copiar no caderno.		

PALAVRAS CRUZADAS: Efeito estufa e aquecimento global
7º ANO

As palavras não são acentuadas nos quadros. Podem ser escritas em qualquer sentido.



1- O efeito _____ (6 letras) é um fenômeno natural importante para manter a temperatura da superfície do planeta em torno de 15° C e, assim, favorecer o desenvolvimento da vida em _____ (5 letras).

2- Chamamos de aquecimento _____ (6 letras) o aumento da temperatura média da superfície da Terra.

3- A maior parte dos cientistas concorda que o aquecimento global tem sido causado pelas ações antrópicas, ou seja, pelas ações _____ (7 letras).

4- O efeito estufa mantém parte do calor refletido pela superfície da Terra ao redor do planeta. Isso acontece porque os gases da atmosfera retêm parte desse calor. Além desses gases, o _____ (5 letras) d'água também contribui para o _____ (6 letras) estufa.

5- Entretanto, durante a queima dos combustíveis fósseis (petróleo e carvão e os seus derivados) há grande produção de gás _____ (9 letras) que é o principal causador do aquecimento global.

6- A decomposição da _____ (7 letras) orgânica nos lixões produz outro gás que também contribui para o efeito estufa, é o gás _____ (6 letras). Esse gás também é produzido no sistema digestório de animais como bois e vacas.

7- O Brasil é um dos países que mais contribuem para o aquecimento global por meio do desmatamento e das _____ (9 letras), principalmente na Floresta Amazônica e no Cerrado.