







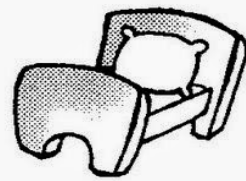



ESCOLA MUNICIPAL COMENDADOR ABDALLA CHIEDDE

Nome do aluno:		
Professora: DANIELLE	Data: 14/12/2021	Turma: 2º ano
Componente Curricular: Língua Portuguesa e Matemática.	Entrega: enviar fotos para professora com as respostas	

SEGUE:

LÍNGUA PORTUGUESA:

 Escreva o nome dos desenhos, colocando cada sílaba num quadrinho.

		
<input type="text"/>	<input type="text"/>	<input type="text"/>
		
<input type="text"/>	<input type="text"/>	<input type="text"/>
		
<input type="text"/>	<input type="text"/>	<input type="text"/>

MATEMÁTICA:

1-) EM CADA UMA DAS SEQUÊNCIAS, FALTA ESCREVER ALGUNS NÚMEROS. COMPLETE-AS E FAÇA A LEITURA DOS NÚMEROS DE CADA UMA DELAS.

A.	11	12	13	14						20
B.	25	26	27					32		
C.	37	38					43		45	
D.	41	42	43				47			50
E.	50	51		53				57		