

ESCOLA MUNICIPAL COMENDADOR ABDALLA CHIEDDE

Nome do aluno:		Semana: 39
Professor: Flávia Carolina	Data: 16/12/2021	Turma: 1° A
Componente Curricular: MATEMÁTICA E INGLÊS		Entrega: ATRAVÉS DE FOTO VIA WHATSAPP.













QUINTA-FEIRA - ATIVIDADE DE MATEMÁTICA

OLÁ MEUS ALUNOS QUERIDOS, VAMOS CONTINUAR REVISANDO?!

1) Colorir os círculos de acordo com o número de elementos de cada conjunto e escrever o número que os representam:

		<input type="text"/>
		<input type="text"/>
		<input type="text"/>
		<input type="text"/>
		<input type="text"/>
		<input type="text"/>

2) Observe os números e escreva o antecessor e o sucessor de:

0	1	2	3	4	5	6	7	8	9	10	11	12	13	14	15
															
															
															

CONTE ATÉ 20.

