















**ESCOLA MUNICIPAL YOSHIHIKO NARITA**

NOME DO ALUNO:		<b>SEMANA 39</b>
PROFESSOR: ARIELI E ROBERT	DATA: 17/12/2021	<b>TURMA: 2º A E B</b>
COMPONENTE CURRICULAR: MATEMÁTICA	ENTREGA: 17/12/2021	

3) A PROFESSORA IVELINE COMPROU ALGUNS ENFEITERS DE NATAL PARA COLOCAR NA ÁRVORE DE NATAL DA ESCOLA. OBSERVE A TABELA E COMPLETE O GRÁFICO:

				<p><b>BOLAS - 10</b></p> <p><b>BOTAS - 8</b></p> <p><b>ESTRELA - 1</b></p> <p><b>SINOS - 7</b></p>
				

- A) QUANTOS ENFEITES ELA COMPROU? \_\_\_\_\_
- B) QUAL ENFEITE FOI COMPRADO EM MENOR QUANTIDADE? \_\_\_\_\_
- 4) O NATAL JÁ ESTÁ CHEGANDO! COMPLETE O CALENDÁRIO DO MÊS DE DEZEMBRO:

DOM	SEG	TER	QUA	QUI	SEX	SÁB
						
						
						

- A) QUANTOS DIAS TEM O MÊS DE DEZEMBRO: \_\_\_\_\_
- B) QUE DIA DA SEMANA É COMEMORADO O NATAL? \_\_\_\_\_