


ESCOLA MUNICIPAL MARIA SIQUEIRA DE PAULA

Nome do aluno:		Semana:38
Professora:Luciléia	Quarta- Feira	Turmas: 4º Ano
Componente Curricular: 1 aula de Língua Portuguesa	Entrega: Foto/vídeo/ Atividade impressa	
Componente Curricular:2 aulas de Ciências		



Língua Portuguesa

Livro Ápis página 165 -Língua Portuguesa –gramática –pronomes .



Ciências

Livro Indisciplinar – Ciências Sistema de posicionamento._ página 39. Vara Gnômon.



Ciências

Avaliação de Ciências -4º ano –A _4º Bimestre -

Nome : _____

Data: _____ Professora: _____



1 – Observe as **figuras 1 e 2** e responda ao que se pede.

a) Qual sua comida preferida?

b) Você gosta mais dos alimentos da figura 1 ou dos alimentos da figura 2?

c) Para você, qual das figuras representa alimentos saudáveis, ideais para manter o corpo sadio e evitar doenças?

d) Quais os riscos para nossa saúde ao ingerirmos grandes quantidades de açúcares e gorduras?




2 – Marque um **X** nos produtos industrializados e circule os produtos naturais.






3-Reescreva, na tabela abaixo, os nomes dos alimentos listados no quesito anterior. Depois, escreva ao da figura, para classificá-los em **alimentos de origem animal** ou **alimentos de origem vegetal**.

4- Observe os alimentos da tabela e marque um **X** na função que cada um desempenha no corpo humano.

ALIMENTOS	FUNÇÃO		
	Energética	Construtora	Reguladora
	Energética	Construtora	Reguladora
	Energética	Construtora	Reguladora



	Energética	Construtora	Reguladora
---	-------------------	--------------------	-------------------