

ESCOLA MUNICIPAL MARIA SIQUEIRA DE PAULA

Nome do aluno:

Semana: 38

Professora: Maria Elizabete Galindo dos Santos Barbosa

**Atividade
Adaptada
Segunda**

Turmas: 3º Ano
06-12-21

Componente Curricular: Língua Portuguesa


Entrega: Foto/vídeo/
Atividade impressa


Componente Curricular: Matemática




LÍNGUA PORTUGUESA

ORGANIZE AS LETRAS E ESCREVA O NOME DAS FIGURAS:


| | |
|--|-----------------|
|  | A O R C B |
| <input type="text"/> | |


| | |
|---|---------------|
|  | L Ã E O |
| <input type="text"/> | |

| | |
|---|-------------------|
|  | M C A O C A |
| <input type="text"/> | |

| | |
|--|-------------------|
|  | E O C L H O |
| <input type="text"/> | |

| | |
|---|-------------------|
|  | I A G A R F |
| <input type="text"/> | |

| | |
|--|------------|
|  | C A A V |
| <input type="text"/> | |

| | |
|---|-------------------|
|  | L A V A C O |
| <input type="text"/> | |

| | |
|--|------------|
|  | O A R T |
| <input type="text"/> | |


MATEMÁTICA

COMPLETE A TABELA COM OS NÚMEROS QUE FALTAM.

| | | | | | | | | | |
|---|----|----|---|----|----|----|---|----|----|
| 0 | | | 3 | | | | 7 | | |
| | 11 | | | | 15 | | | | 19 |
| | | 22 | | 24 | | 26 | | 28 | |


QUAL O NÚMERO QUE VEM ANTES? COMPLETE.

| | | | |
|--|----|--|----|
| | 20 | | 19 |
| | 11 | | 25 |
| | 27 | | 13 |
| | 14 | | 29 |
| | 23 | | 16 |



VAMOS APRENDER MAIS.

20 - 21 - 22 - 23 - 24 - 25 26
27 - 28 - 29 - 30

| DEZENA | UNIDADE |
|---|---------|
|  | |

TRINTA




30 UNIDADES FORMAM 3 DEZENAS
 $30 = 3 \text{ DEZENAS}$

ATIVIDADES

1. ESCREVA OS NÚMEROS DE 1 ATÉ 30.



ESCOLA MUNICIPAL MARIA SIQUEIRA DE PAULA

| | | | |
|--|--|---|--|
| Nome do aluno: | | Semana: 38 | |
| Professora: Maria Elizabete Galindo dos Santos Barbosa | | Atividade Adaptada | |
| | | Terça | |
| Componente Curricular: Língua Portuguesa | | Entrega: Foto/vídeo/ Atividade impressa | |
| Componente Curricular: Matemática | |  | |

LÍNGUA PORTUGUESA


ENCONTRE AS 6 PALAVRAS QUE A PROFESSORA VAI DITAR.
TEXTO COLETIVO: PRODUÇÃO DE FRASES COM AS PALAVRAS ENCONTRADAS.



| | | | | | | | | | |
|---|---|---|---|---|---|---|---|---|---|
| C | O | C | O | T | U | N | O | P | A |
| A | Y | U | I | G | I | C | U | C | O |
| C | O | P | O | P | O | U | T | A | D |
| A | D | O | J | U | C | A | B | O | P |
| U | O | P | U | I | T | E | C | L | I |
| C | E | B | O | L | A | B | O | T | L |
| U | T | V | N | C | A | S | A | P | O |
| G | F | T | C | E | N | O | U | R | A |
| C | J | C | O | E | L | H | O | A | B |

- 1
- 2
- 3
- 4
- 5
- 6

ESCOLA MUNICIPAL MARIA SIQUEIRA DE PAULA

| | | |
|--|---|----------------------------|
| Nome do aluno: | | Semana: 38 |
| Professora: Maria Elizabete Galindo dos Santos Barbosa | Atividade Adaptada Quarta | Turmas: 3º Ano 08-12-21 |
| Componente Curricular: Língua portuguesa | Entrega: Foto/vídeo/ Atividade impressa | |
| Componente Curricular: Matemática |  | |

LÍNGUA PORTUGUESA

FORME FRASES USANDO ESTAS PALAVRAS:

| | | | | |
|---|--------|------|--------|--------|
| A | MACACO | NÃO | BANANA | BOLA |
| O | MENINO | É | É | MADURA |
| A | BONÉ | COME | DE | BONITO |
| O | BONECA | AZUL | JOGA | NINA |

1

2

3

4

DECIFRE O CÓDIGO E DESCUBRA O NOME DE DUAS FRUTAS:

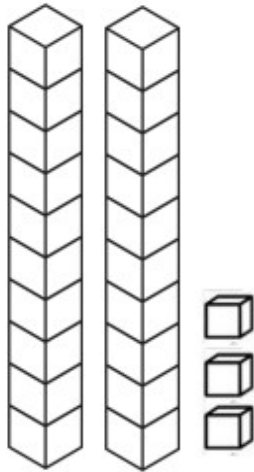
| | | | | | | | |
|---|---|---|---|---|---|---|---|
| ☆ | ☾ | ☀ | ☁ | ■ | ▲ | + | ◆ |
| A | E | G | I | N | P | T | R |

| | | | | | | |
|---|---|---|---|---|---|---|
| ▲ | ☁ | + | ☆ | ■ | ☀ | ☆ |
| | | | | | | |

| | | | |
|---|---|---|---|
| ▲ | ☾ | ◆ | ☆ |
| | | | |

ILUSTRE:

MATEMÁTICA



$10 + 10 + 3 = 23$
2 dezenas e 3 unidades

| | |
|----------|----------|
| D | U |
| | |

Escreva o número que falta:

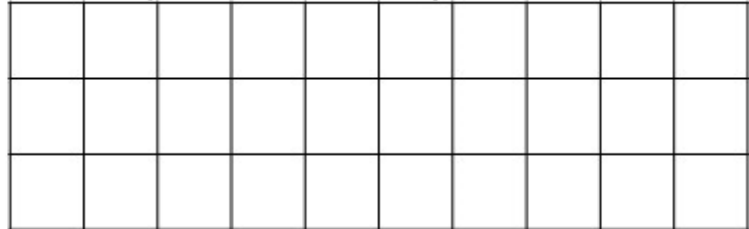
| | | | | | | | | | |
|----|----|----|--|----|----|----|----|----|----|
| 20 | 21 | 22 | | 24 | 25 | 26 | 27 | 28 | 29 |
|----|----|----|--|----|----|----|----|----|----|

Escreva os números que vem antes e depois.

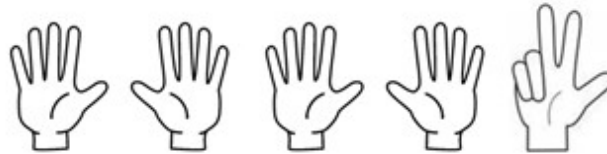
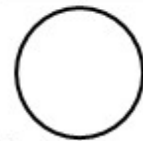
| | | | | |
|--|--|----|--|--|
| | | 23 | | |
|--|--|----|--|--|

Desenhe 23 bolinhas.

Pinte a quantidade correspondente



Escreva a quantidade de dedos :



Escreva o que se pede:

| | | | |
|-----------|----|-----|-----|
| 23 | | | |
| -1 | +1 | -10 | +10 |


decomposição:

..... + =

Escreva :

















vinte e três

ESCOLA MUNICIPAL MARIA SIQUEIRA DE PAULA


| | | |
|--|---|----------------------------|
| Nome do aluno: | | Semana: 38 |
| Professora: Maria Elizabete Galindo dos Santos Barbosa | Atividade Adaptada Quinta | Turmas: 3º Ano 09-12-21 |
| Componente Curricular: Interdisciplinar | Entrega: Foto/vídeo/ Atividade impressa | |
| Componente Curricular: Matemática |  | |

LÍNGUA PORTUGUESA

ESCOLHA O BALÃO CORRETO PARA COMPLETAR OS NOMES DOS INSETOS

| | | |
|---|---------------------|---|
|  | MOS_____TO |  |
|  | _____CA |  |
|  | _____MIGA |  |
|  | BOR_____LETA |  |
|  | _____NHOCA |  |
|  | _____ANINHA |  |
|  | A_____LHA |  |
|  | CA_____COL |  |

MATEMÁTICA



$$10 + 10 + 10 = 30$$


3 dezenas e 0 unidade

| | |
|----------|----------|
| D | U |
| | |

Adicione:

$$\begin{array}{r} 30 \\ +1 \\ \hline \end{array} \quad \begin{array}{r} 30 \\ +3 \\ \hline \end{array} \quad \begin{array}{r} 30 \\ +2 \\ \hline \end{array}$$

Pinte a quantidade correspondente



Escreva o que se pede:

| | | | |
|-----------|----|-----|-----|
| 30 | | | |
| -1 | +1 | -10 | +10 |

decomposição:

.....+.....=.....


Escreva os números que faltam:

| | | | | |
|----|----|----|----|----|
| | 19 | | 21 | |
| 28 | | 30 | | 32 |
| | 39 | | 41 | |

Escreva:

| |
|--------|
| trinta |
| |
| |


Represente o numeral com barrinhas e cubinhos:



Continue contando os números e descubra os que faltam. Escreva-os.



ESCOLA MUNICIPAL MARIA SIQUEIRA DE PAULA

| | | |
|--|---|----------------------------|
| Nome do aluno: | | Semana: 38 |
| Professora: Maria Elizabete Galindo dos Santos Barbosa | Atividade Adaptada Sexta | Turmas: 3º Ano 10-12-21 |
| Componente Curricular: Português | Entrega: Foto/vídeo/ Atividade impressa | |
| Componente Curricular: Matemática |  | |

LÍNGUA PORTUGUESA

ORDENE AS SÍLABAS EM FORME O NOME DA FIGURA

| FIGURA | SÍLABAS | ESCRITA |
|---|-------------|---------|
|  | CO CU | CUCO |
|  | BU NA ZI | |
|  | CA DE BI | |
|  | XI GA BE | |
|  | RI GO LA | |
|  | LI A TE CA | |
|  | LA NA GE TI | |

CIRCULE O NOME DE CADA FIGURA:



BURACO
TUBARÃO



ÓCULOS
OVO



BONECA
JANELA



GAIOLA
GORILA



COMIDA
CAVALO



PANELA
CANELA

MATEMÁTICA

Mamãe fez uma pesquisa para saber qual a sobremesa preferida dos convidados para minha festa de aniversário. Separou os convidados em dois grupos: adultos e crianças.

Veja:

| SOBREMESAS | CONVIDADOS ADULTOS | CONVIDADOS CRIANÇAS |
|---|--------------------|---------------------|
| BOLO  | 8 | 6 |
| SORVETE  | 5 | 10 |
| PUDIM  | 7 | 2 |

1) Responda:

- a) Qual a sobremesa preferida dos adultos? _____
- b) Qual a sobremesa preferida das crianças? _____
- c) Qual a sobremesa que recebeu o maior número de votos? _____
- d) Qual a sobremesa que mamãe deverá fazer? _____

Para organizar os presentes que ganhei fiz um gráfico.

2) Marque a resposta correta:

a) A quantidade de brinquedos que ganhei foi:

- 3 5
- 8 10

b) Ganhei mais:

- brinquedos livros
- roupas sapatos

c) O total de presentes que ganhei foi:

- 26 20 18 10

