

## PROGRAMA SEGUE - ATIVIDADE DE MATEMÁTICA




Secretaria de Educação  
Avenida Prefeito Valdirio Frisco, 193  
Jardim Itacolomy  
sec@ribeiraopires.sp.gov.br  
(11) 4828-9600/ 4825-9270

<b>ESCOLA MUNICIPAL ENGENHEIRO CARLOS ROHM – UNIDADE I</b>		
<b>NOME DO ALUNO:</b>		<b>SEMANA 38</b>
<b>PROFESSORAS: TALITA, MARISTELA, ROSANGELA, VALÉRIA E RAQUEL.</b>	<b>DATA: 6/12 a 10/12</b>	<b>TURMA: 1° ____</b>
<b>COMPONENTE CURRICULAR:</b> <b style="background-color: yellow;">PORTUGUÊS E MATEMÁTICA</b>	<b>ENTREGA: DO DIA 06/12 a 10/07(SEXTA-FEIRA), 11HRS AM TIRAR FOTO E ENVIAR POR E-MAIL.</b>	


## PROJETO SEGUE - ATIVIDADE DE LÍNGUA PORTUGUESA

1. CIRCULE A SÍLABA INICIAL E COMPLETE A PALAVRA.




MA ME MI  
MO MU

\_\_\_\_CACO




BA BE BI  
BO BU

\_\_\_\_NANA



FLA FLE FLI  
FLO FLU

\_\_\_\_RESTA



NA NE NI  
NO NU

\_\_\_\_TAL

2. ENCONTRE OS NOMES DOS DESENHOS DA ATIVIDADE ANTERIOR..

CO	MA	CA	CO	JA
NA	TAL	FA	RES	SA
BA	NA	NA	JA	TA
TAL	FLO	RES	TA	MA

**PROGRAMA SEQUE - ATIVIDADE DE MATEMÁTICA**

# CONTAGEM

CONTE CADA FIGURA E MARQUE O RESULTADO NO LUGAR INDICADO:



