

ESCOLA MUNICIPAL ENGENHEIRO CARLOS ROHM I

Nome do aluno:	Data: 06/12/2021	Semana: 38
Professor: Eliane, Marina, Cilene e Andréia	Turma: 3.º Anos: A,B,C e D	
Componentes Curriculares: Língua Portuguesa	Entregar: Via E-mail até dia 07/12/21	

LÍNGUA PORTUGUESA

1- LEIA O POEMA:

NATAL


LÁ NO CÉU, ESTA NOITE VAI BRILHAR
UMA ESTRELA CINTILANTE,
REFLETINDO NOSSO OLHAR.

E ESSA LUZ VAI ILUMINAR
UM CAMINHO PRA SEGUIR,
TODO FEITO DE MAGIA,
QUE NÓS VAMOS CONSTRUIR!

É NATAL! VEM CANTAR!
DÊ UMA CHANCE
PARA O SEU AMOR ACONTECEI!



2- COPIE AS PALAVRAS DO QUADRO EM ORDEM ALFABÉTICA.



ESTRELA - FEITO - MAGIA
REFLETINDO - SEGUIR - OLHAR
BRILHAR - NOITE - PARA
ILUMINAR - LUZ - CÉU
AMOR - QUE - VEM

1. _____
2. _____
3. _____
4. _____
5. _____
6. _____

7. _____
8. _____
9. _____
10. _____
11. _____
12. _____
13. _____
14. _____
15. _____







ESCOLA MUNICIPAL ENGENHEIRO CARLOS ROHM I

Nome do aluno:	Data: 07/12/2021	Semana: 38
Professor: Eliane, Marina, Cilene e Andréia	Turma: 3.º Anos: A,B,C e D	
Componentes Curriculares: Língua Portuguesa	Entregar: Via E-mail até dia 08/12/21	

LÍNGUA PORTUGUESA

1- FAÇA O QUE SE PEDE:



	NOME	NÚMERO DE LETRAS		LETRA INICIAL	LETRA FINAL
					
					
					
					
					


2- COMPLETE A SÍLABA FALTOSA.

 BO _____

 ESTRE _____

 PANETO _____

 PRESEN _____

 ÁRVO _____

 SI _____

 VE _____


 PRESÉPI _____

ESCOLA MUNICIPAL ENGENHEIRO CARLOS ROHM I

Nome do aluno:	Data: 08/12/2021	Semana: 38
Professor: Eliane, Marina, Cilene e Andréia	Turma: 3.º Anos: A,B,C e D	
Componentes Curriculares: Matemática	Entregar: Via E-mail até dia 09/12/21	

MATEMÁTICA

ADIÇÃO NATALINA



COMPLETE A SEQUÊNCIA!

5, 10, 15, _____, _____, _____, _____


2, 4, 6, _____, _____, _____, _____

ESCOLA MUNICIPAL ENGENHEIRO CARLOS ROHM I

Nome do aluno:	Data: 09/12/2021	Semana: 38
Professor: Eliane, Marina, Cilene e Andréia	Turma: 3.º Anos: A,B,C e D	
Componentes Curriculares: Matemática	Entregar: Via E-mail até dia 10/12/21	

MATEMÁTICA

1- LIGUE OS NÚMEROS DO 1 AO 35.







ESCOLA MUNICIPAL ENGENHEIRO CARLOS ROHM I

Nome do aluno:	Data: 10/12/2021	Semana: 38
Professor: Eliane, Marina, Cilene e Andréia	Turma: 3.º Anos: A,B,C e D	
Componentes Curriculares: Língua Portuguesa	Entregar: Via E-mail até dia 13/12/21	

LÍNGUA PORTUGUESA

1- MARQUE UM X NA LETRA OU SÍLABA INICIAL DE CADA DESENHO:

 () BRA () PRE () TE	 () SE () ES () TRE	 () MA () LI () PA	 () AR () SU () DA
---	--	---	---


2- FAÇA UM X ONDE ESTÁ ESCRITO O NOME DAS FIGURAS:



- () PAPAÍ
- () BOTA
- () ÁRVORE



- () TATURANA
- () ANJO
- () CORUJA



- () BONECA
- () BOLA
- () BEXIGA

3- LIGUE OS SÍMBOLOS DO NATAL AO SEU NOME.



ÁRVORE

VELA

BOLA

BOTA

PAPAI NOEL