













| | | |
|--|---------------------|------------------|
| ESCOLA MUNICIPAL YOSHIHIKO NARITA | | |
| NOME DO ALUNO | DATA: 19/11/2021 | SEMANA 35 |
| PROFESSORES: IRENE, NEUSA E BIANCA. | | TURMA: JARDIM II |
| CAMPO DE EXPERIÊNCIA: ESPAÇOS, TEMPOS, QUANTIDADES, RELAÇÕES E TRANSFORMAÇÕES. | | |

SEXTA-FEIRA

ATIVIDADE : ADIÇÃO COM APOIO DE DESENHOS.

ESCOLHA COM A CRIANÇA UM LUGAR TRANQUILA. EXPLIQUE PARA CHANCE QUE ELA VAI CONTAR OS PEIXINHOS E ESCREVER O NÚMERO. PARA FINALIZAR ELA VAI CONTAR TODOS OS PEIXINHOS E ESCREVER E DESENHAR O TOTAL DE PEIXINHOS.

| | | | | |
|---|---|---|---|---|
|  | + |  | = |  |
| 2 | | 3 | | 5 |
|  | + |  | = |  |
| — | | — | | — |
|  | + |  | = |  |
| — | | — | | — |
|  | + |  | = |  |
| — | | — | | — |