





<b>Escola: E.M. Comendador Abdalla Chiedde</b>		
Nome do aluno:	<b>Data: 22 à 26 de novembro</b>	<b>Semana: 36</b>
Professora: Sara e Lenilda	Turma: 5 <sup>os</sup> anos A e B	
Componente Curricular: Língua Portuguesa	Entregar: diariamente via foto whatsapp	
<b>PROGRAMA SEGUE:</b> Atividade de intensificação da aprendizagem		
<b>HABILIDADES:(EF05LP26)</b> Utilizar, ao produzir o texto, conhecimentos linguísticos e gramaticais: regras sintáticas de concordância nominal e verbal, convenções de escrita de citações, pontuação (ponto final, dois-pontos, vírgulas em enumerações) e regras ortográficas.		

## LÍNGUA PORTUGUESA

1- Crie frases de acordo com o verbo e o tempo verbal pedido.

	<b>Verbo: brincar</b>
	Passado _____
	Presente _____
	Futuro _____
	<b>Verbo: estudar</b>
	Passado _____
	Presente _____
	Futuro _____
	<b>Verbo: nadar</b>
	Passado _____
	Presente _____
	Futuro _____
	<b>Verbo: passear</b>
	Passado _____
	Presente _____
	Futuro _____

<b>Escola: E.M. Comendador Abdalla Chiedde</b>		
Nome do aluno:	<b>Data: 22 à 26 de novembro</b>	<b>Semana: 36</b>
Professora: Sara e Lenilda	Turma: 5ºs anos A e B	
Componente Curricular: Matemática	Entregar: diariamente via foto whatsapp	
<b>PROGRAMA SEGUE:</b> Atividade de intensificação da aprendizagem		
<p><b>HABILIDADES:(EF05MA07)</b> Resolver e elaborar problemas de adição e subtração com números naturais e com números racionais, cuja representação decimal seja finita, utilizando estratégias diversas, como cálculo por estimativa, cálculo mental e algoritmos.</p>		

## MATEMÁTICA

<p>A. Lúcia é uma comerciante que trabalha com material escolar. Para realizar suas compras, fez uma pesquisa e observou que, na loja Belacor, a caixa de lápis de cor com 24 unidades custava R\$ 27,00 e, em outra loja, esse mesmo produto custava R\$ 19,00. Quanto ela economizou ao comprar 10 caixas de lápis de cor na loja de menor preço?</p>	<p>B. Na loja Grafite, Lúcia notou que cada lápis preto custava R\$ 0,50 e em outra loja esse mesmo lápis custava R\$ 0,30 a mais que na loja Grafite. Qual o preço do lápis preto nessa outra loja?</p>

C. Sandra também comprou 2230 canetas pretas e algumas vermelhas totalizando 3540 canetas. Quantas canetas vermelhas ela comprou?

C. Lúcia comprou 300 cadernos, dos quais 180 eram do tipo brochura e os demais, do tipo espiral. Quantos eram os cadernos do tipo espiral?

D. Ao iniciar suas compras, ela possuía R\$ 2000,00 e, ao terminá-las, percebeu que tinha na carteira R\$ 260,00. Qual o valor total de suas compras?





**Secretaria de Educação**

*Avenida Prefeito Valdirio Prisco, 193*

*Jardim Itacolomy*

*sec@ribeiraopires.sp.gov.br*

*(11) 4828-9600 / 4825-9270*