

MUNICIPAL COMENDADOR ABDALLA CHIEDDE		
Nome do aluno:		Semana 36
Professoras: Sara e Lenilda	Data: 24/11/2021 Quarta-feira	Turma: 5º ano A e B
Componente Curricular: Língua portuguesa, História e Geografia	Entrega: diariamente através do WhatsApp	

Quarta-feira 24/11/2021

ATIVIDADE AVALIATIVA DE MATEMÁTICA

QUESTÃO 01

O percurso que Pedro faz de sua casa até seu trabalho é de 4 km.

Em 5 dias o trajeto total que Pedro faz de ida e volta é de

- (A) 4 km.
- (B) 40 km.
- (C) 400 km.
- (D) 4000 km.

QUESTÃO 02

Uma loja de revenda de celulares possuía 1380 aparelhos de celular. Numa promoção foram vendidas 55 unidades.

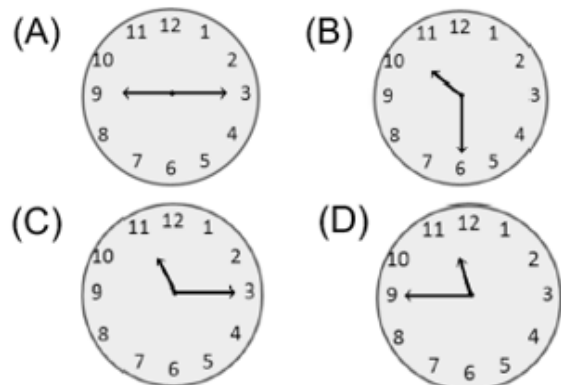
A quantidade de celulares que restaram na loja é de

- (A) 1435.
- (B) 1380.
- (C) 1335.
- (D) 1325.

QUESTÃO 03

Júnior, ao entrar no clube, olhou no relógio e o mesmo marcava exatamente 8h e 15min.

Sabendo que Júnior permaneceu por lá 2h e 15min marque o relógio que indica exatamente o horário de sua saída.



QUESTÃO 04

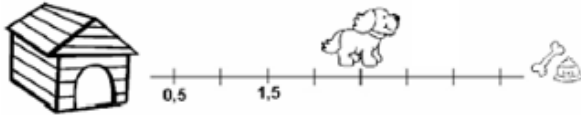
Carlos quer trocar as moedas representadas a seguir por cédulas (notas) de R\$ 2,00.

A quantidade máxima de cédulas que ele obterá é de +

- (A) 8 cédulas.
- (B) 5 cédulas.
- (C) 4 cédulas.
- (D) 3 cédulas.

QUESTÃO 05

Observe a seguir o trajeto que o cachorro está fazendo da sua casa até a comida.



O ponto em que o cachorro está localizado na reta numérica é

- (A) 4,0.
- (B) 3,5.
- (C) 2,5.
- (D) 2,0.

QUESTÃO 06

Patrícia colocou os algarismos do número 9 851 no pote correspondente ao seu valor posicional.

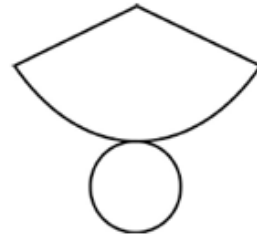


O algarismo que será colocado no pote das centenas é


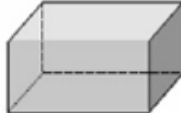


- (A) 9.
- (B) 8
- (C) 5
- (D) 1

QUESTÃO 07

Carol possui um brinquedo que quando planificado é semelhante à figura a seguir:

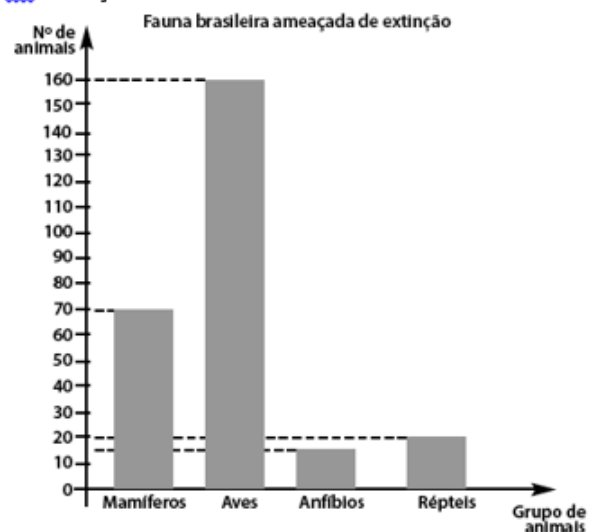


O sólido geométrico que corresponde a essa figura é

- (A) 
- (B) 
- (C) 
- (D) 

QUESTÃO 08

Observe o gráfico a seguir que mostra alguns animais da fauna brasileira ameaçados de extinção.



Fonte: Instituto Brasileiro do Meio Ambiente dos Recursos Naturais Renováveis (IBAMA)

O grupo de animais que tem menos espécies ameaçadas de extinção é

- (A) anfíbios.
- (B) aves.
- (C) mamíferos.
- (D) répteis.

QUESTÃO 09

Pedro tem 65 figurinhas e Leonardo tem 85. O total de figurinhas que os dois têm juntos é igual a

- (A) 65
- (B) 85
- (C) 140
- (D) 150.

QUESTÃO 10

Roberto comprou uma bola de futebol à vista e outra de vôlei à prazo, conforme os preços relacionados na tabela a seguir:

TABELA DE PREÇOS		
	à vista	à prazo
Bola de Futebol	R\$ 17,00	R\$ 21,00
Bola de Vôlei	R\$ 20,00	R\$ 23,00

O valor pago por Roberto em cada bola foi

- (A) futebol R\$ 21,00 e vôlei R\$ 20,00.
- (B) futebol R\$ 17,00 e vôlei R\$ 20,00.
- (C) futebol R\$ 17,00 e vôlei R\$ 23,00.
- (D) futebol R\$ 21,00 e vôlei R\$ 23,00.

ATIVIDADE AVALIATIVA DE MATEMÁTICA

QUINTO ANO – PARTE 02

QUESTÃO 01

Ao fazer um pudim, minha mãe usou, entre outros, os seguintes ingredientes:

- 1 lata de leite condensado de 394g.
- 1 caixinha de creme de leite de 194g.
- 1 envelope de gelatina em pó sem sabor de 12g.

Quantos gramas de ingredientes foram usados na produção do pudim?

- A) 0,6 g.
- B) 6,0 g.
- C) 60 g.
- D) 600 g.

QUESTÃO 02

A professora pediu para Ana ir ao quadro e resolver a seguinte multiplicação:

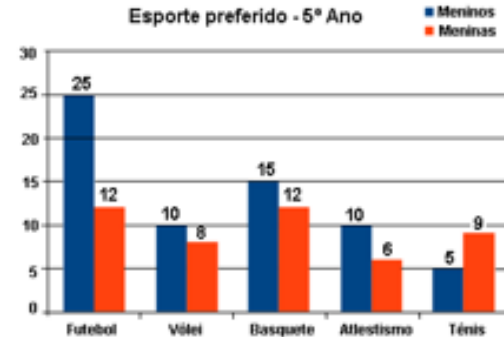
$$\begin{array}{r} 213 \\ \times 52 \\ \hline \end{array}$$

O produto encontrado por Ana foi

- A) 1 491.
- B) 10 176.
- C) 11 006.
- D) 11 076.

QUESTÃO 03

Observe o gráfico a seguir que representa o resultado de uma pesquisa sobre o esporte preferido dos alunos do 5º ano. A primeira coluna de cada esporte representa os meninos e a segunda as meninas.



O esporte menos votado pelas meninas foi

- A) vôlei.
- B) basquete.
- C) atletismo.
- D) tênis.

QUESTÃO 04

A reta numérica a seguir mostra os países sede da Copa do Mundo no período de 1998 a 2022.



O Catar sediará a Copa do Mundo em

- A) 2006
- B) 2010
- C) 2018
- D) 2022

QUESTÃO 05

A professora Abadia pesquisou no 5º ano o lanche preferido dos estudantes e representou os votos na tabela a seguir:

Lanche	Quantidade de votos
Pizza	14
Sanduíche	8
Salgado	15
Bolacha	7

O tipo de lanche mais votado foi

- A) a pizza.
- B) o sanduíche.
- C) o salgado.
- D) a bolacha.

QUESTÃO 06

Alessandra completou 18 meses de idade.
O total de tempo desse período corresponde a

- A) 3 anos.
- B) 3 semestres.
- C) 3 trimestres.
- D) 3 bimestres.


QUESTÃO 07

Sabendo que o senhor Joaquim levou para vender na feira 482 pastéis e ao final do dia sobraram 46 unidades, quantos pastéis foram vendidos ao todo?

- A) 432
- B) 436
- C) 444
- D) 448

QUESTÃO 08

Observe o quadrilátero a seguir com seus respectivos ângulos.



Nele observamos

- A) somente ângulos retos.
- B) ângulo raso e agudo.
- C) ângulo obtuso e reto.
- D) somente ângulos rasos.

QUESTÃO 09

A professora Simone pediu aos alunos para decompor o número **7435**.
A decomposição correta deste número é

- A) $700 + 400 + 3 + 50$.
- B) $700 + 400 + 30 + 50$.
- C) $7\ 000 + 400 + 30 + 5$.
- D) $7\ 000 + 40 + 30 + 5$.

QUESTÃO 10

Observe o cilindro a seguir:



Planificando este cilindro encontramos

- A) somente um círculo e um retângulo.
- B) um círculo e dois retângulos.
- C) dois círculos e dois retângulos.
- D) dois círculos e um retângulo.

Observe a figura:

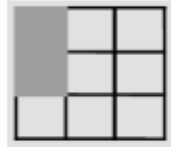
A fração que representa a parte pintada em relação ao total é

a) $\frac{1}{8}$

b) $\frac{2}{8}$

c) $\frac{1}{9}$

d) $\frac{2}{9}$



Paulo comeu 3 partes de uma barra de chocolate que foi dividida em 8 partes iguais. A fração que representa a parte da barra de chocolate que Paulo comeu é

a) $\frac{8}{3}$

b) $\frac{3}{8}$

c) $\frac{1}{3}$

d) $\frac{1}{8}$

ATIVIDADE DE GEOGRAFIA

Hoje você irá fazer atividades sobre:

- Atividades econômicas e deslocamento de pessoas.
- Migração e emigração



1. Abra o livro interdisciplinar na página 72 e ,leia o texto e observe imagens para responder às questões 1 e 2.
2. Na página 73, Leia o texto “ Brasileiros que migram para outros países” responda a questão 1.
3. Faça uma pesquisa com algum familiar ou amigo que tenha emigrado. Ela pode estar morando fora do Brasil ou já ter retornado.
 - ❖ Siga o roteiro da entrevista no final da página 73.
 - ❖ Registre a entrevista no caderno.

ATIVIDADE DE HISTÓRIA

Hoje você irá fazer atividades sobre:

- Tradições orais e memória



Hoje daremos continuidade aos estudos da semana anterior “ tradições orais e memória”.

1. Abra o livro na página 182 e faça a leitura do texto sobre comunidades quilombolas e observe as imagens.
2. Na página 183, siga o roteiro e faça a pesquisa sobre comunidades quilombolas brasileiras.

Atenção: traga a pesquisa para a próxima aula.