



2) DESCUBRA QUAL É O NÚMERO:

2 DEZENAS E 6 UNIDADES: \_\_\_\_\_

6 DEZENAS: \_\_\_\_\_

8 UNIDADES: \_\_\_\_\_

4 UNIDADES: \_\_\_\_\_

3 DEZENAS E 9 UNIDADES: \_\_\_\_\_

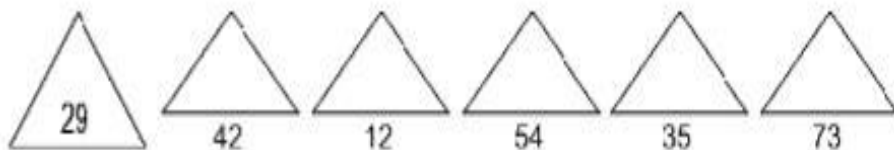
7 DEZENAS: \_\_\_\_\_

3) DECOMPONHA EM ORDENS (DEZENAS E UNIDADES):

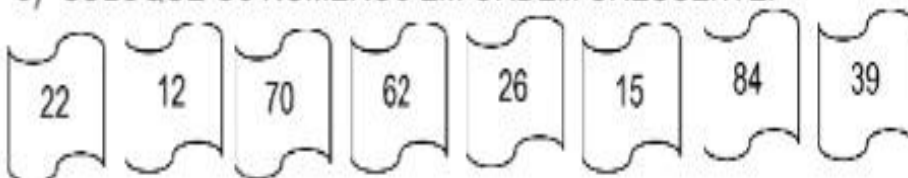
83	→
5	→
26	→
94	→
7	→



4) Pinte o número maior de vermelho e o menor de azul:



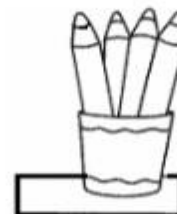
5) Coloque os números em ordem crescente:



**RESOLVA AS SITUAÇÕES:**

A ) MATHEUS COMPROU 27 CAIXAS DE LÁPIS DE COR. 35 BORRACHAS E 19 APONTADORES .QUANTOS MATERIAIS ELE COMPROU AO TODO?

OPERAÇÃO	RESPOSTA



B ) LUCAS GANHOU UM AQUÁRIO COM 53 PEIXINHOS, MAS INFELIZMENTE 18 MORRERAM. QUANTOS PEIXINHOS LUCAS AINDA TEM NO AQUÁRIO?

OPERAÇÃO	RESPOSTA

RESPOSTA



**ARME E EFETUE:**

**A- 45+94**

**B-57+27**

**c- 52-13**

**D- 82-45**

A)


B)


C)


D)


## LÍNGUA PORTUGUESA- ATIVIDADE DE FIXAÇÃO NO CADERNO

COMPLETE COM M OU N:

ELEFA \_\_\_\_\_ TE

MELA \_\_\_\_\_ CIA

TA \_\_\_\_\_ BOR

DE \_\_\_\_\_ TE

SA \_\_\_\_\_ BA

SA \_\_\_\_\_ FONA

CA \_\_\_\_\_ PO

VE \_\_\_\_\_ TO

E \_\_\_\_\_ PATE

ANTES DAS CONSOANTES **P** E **B** USAMOS A LETRA \_\_\_\_\_.