



















**ESCOLA MUNICIPAL COMENDADOR ABDALLA CHIEDDE**

Nome do aluno:		
Professora: DANIELLE	Data: 29/11/2021	Turma: 2º ano
Componente Curricular: <b>Língua Portuguesa e Matemática.</b>	Entrega: enviar fotos para professora com as respostas	

**SEGUE:**

**LÍNGUA PORTUGUESA:**

NUMERE OS DESENHOS DE ACORDO COM A PALAVRA E ESCREVA SEU NOME

1. BODE		
2. CABO		
3. BOTÃO		
4. BOLO		
5. CABINE		
6. BALA		
7. BANANA		
8. BATATA		
9. BOLACHA		

Organizadora: Kátia Teixeira. <https://www.katiateixeira.com/>

## MATEMÁTICA:

1-) DESCUBRA QUAIS SÃO OS NÚMEROS COBERTOS PELAS TIRAS COLORIDAS NO QUADRO E ESCREVA-OS.

0	1	2	3	4	5				
10	11	12					17	18	19
20	21	22	23	24	25	26	27		29
	31	32	33	34	35	36	37		39
	41	42		44	45	46	47		49
	51	52		54	55	56	57		59
	61	62		64	65				
70	71	72		74	75	76	77	78	79

2-) OBSERVE AS SEQUÊNCIAS DE NÚMEROS E AS COMPLETE.

A. 

0	2	4			
---	---	---	--	--	--

B. 

15	20	25			
----	----	----	--	--	--

C. 

14	24	34			
----	----	----	--	--	--