

ESCOLA MUNICIPAL YOSHIHIKO NARITA


Nome do aluno:		Semana 35
Professor: Valkíria	Data: 16/11/2021	Turma: 4º ano
Componente Curricular: Língua Portuguesa, Matemática e História		Entrega: 19/11/2021
Habilidades: (EF01LP08), (EF01HI05), (EF01MA05)		
Devolutiva: enviar as fotos das atividades no whatsapp da professora		


Terça-feira – 16/11/2021 – Língua Portuguesa e História

- ESCREVA O NOME DAS GRAVURAS. CONSULTE O BANCO DE PALAVRAS:

BONECA BOLA PIÃO
URSO PETECA





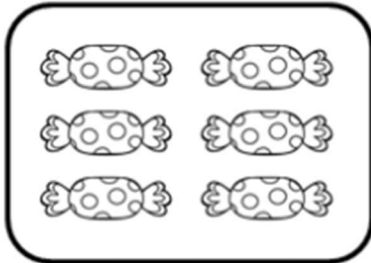







Matemática


❖ **PINTE O NÚMERO QUE CORRESPONDE A QUANTIDADE DE ELEMENTOS DO CONJUNTO:**




5	6	7
---	---	---



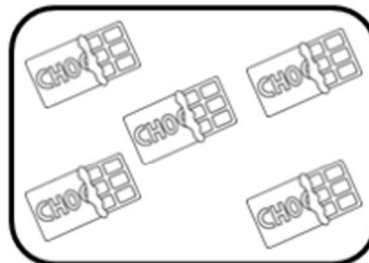
7	8	9
---	---	---




2	3	4
---	---	---




11	12	13
----	----	----



4	5	6
---	---	---



1	2	3
---	---	---



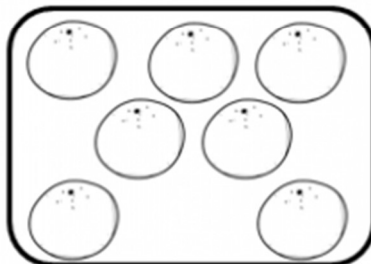
8	9	10
---	---	----




14	15	16
----	----	----



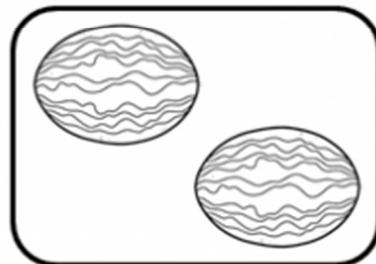
9	10	11
---	----	----



5	6	7
---	---	---



1	2	3
---	---	---



1	2	3
---	---	---

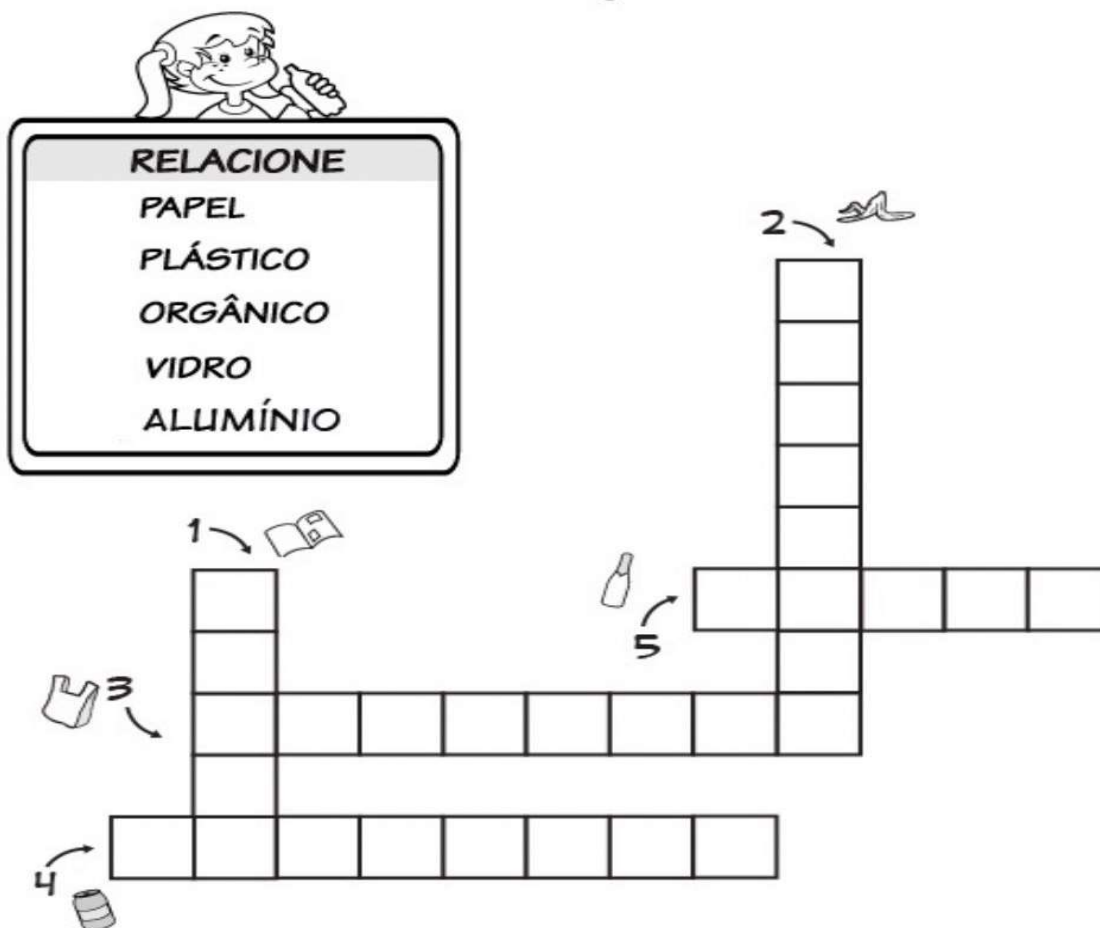
ESCOLA MUNICIPAL YOSHIHIKO NARITA

Nome do aluno:		Semana 35
Professor: Valkíria	Data: 18/11/2021	Turma: 4º ano
Componente Curricular: Língua Portuguesa, Matemática e Ciências		Entrega: 19/11/2021
Habilidades: (EF01MA10), (EF01CI01), (EF01LP08)		
Devolutiva: enviar as fotos das atividades no whatsapp da professora		

Quinta-feira – 18/11/2021 – Língua Portuguesa e Ciências

CRUZADINHA

Relacione as palavras com os objetos e complete o diagrama abaixo:



RELACIONE


PAPÉL


PLÁSTICO


ORGÂNICO


VIDRO


ALUMÍNIO

1 → 

2 → 

3 → 

4 → 

5 → 

Matemática

❖ CONTE A QUANTIDADE DE PÉTALAS E ESCREVA O NUMERAL NO QUADRADINHO:



❖ COMPLETE A SEQUÊNCIA:




1		3		5		7		9	
	2		4		6		8		10

ESCOLA MUNICIPAL YOSHIHIKO NARITA		
Nome do aluno:		Semana 35
Professor: Valkíria	Data: 19/11/2021	Turma: 4º ano
Componente Curricular: Língua Portuguesa e Matemática		Entrega: 19/11/2021
Habilidades: (EF01MA10), (EF01LP08)		
Devolutiva: enviar as fotos das atividades no whatsapp da professora		

Sexta-feira – 19/11/2021 – Língua Portuguesa













ESCREVA O NOME DE CADA DESENHO
NOS QUADRADINHOS.



Matemática


TROQUE OS DESENHOS PELOS NUMERAIS QUE COMPLETAM A SEQUÊNCIA:

1	2	3	4	5		7		9	10
	12		14	15	16	17	18	19	
21	22	23	24		26	27		29	30
	32	33		35	36	37	38		40
41	42		44	45	46		48	49	50

❖ DÊ O ANTECESSOR E O SUCESSOR:

	40	
	18	
	29	
	38	



	43	
	30	
	25	