

ESCOLA MUNICIPAL YOSHIHIKO NARITA

Nome do aluno:	Semana 34	
Professor: Valkíria	Data:08/11/2021	Turma: 4º ano
Componente Curricular: Língua Portuguesa, Matemática e Geografia	Entrega:12/11/2021	
Habilidades: (EF12LP01), (EF01MA10), (EF01GE11)		
Devolutiva: enviar as fotos das atividades no whatsapp da professora		

Segunda-feira – 08/11/2021 – Língua Portuguesa e Geografia

LIGUE-LIGUE

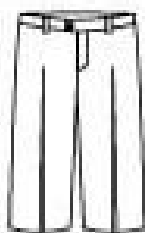
Ligue o nome a cada desenho.



VESTIDO



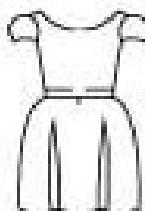
CHAPÉU



SAPATO








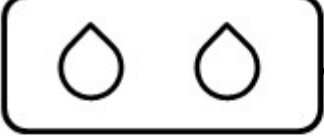




CAMISA



CALÇA

Matemática

CONTE E ESCREVA O NÚMERO DE ELEMENTOS E DEPOIS O NOME DO NÚMERO, COMO NO EXEMPLO DADO.

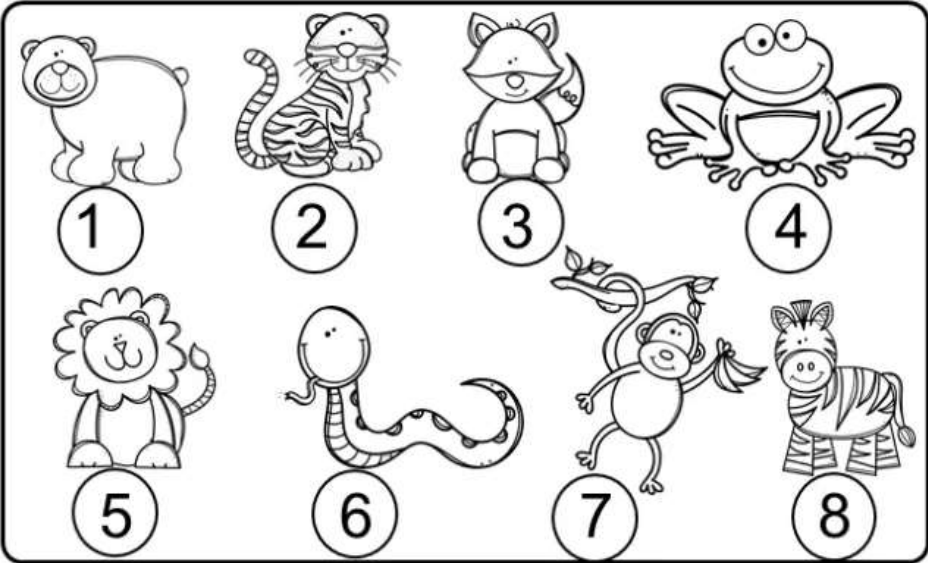
	10	DEZ
		
		
		
		
		
		
		
		
		

ESCOLA MUNICIPAL YOSHIHIKO NARITA

Nome do aluno:		Semana 34
Professor: Valkíria	Data:09/11/2021	Turma: 4º ano
Componente Curricular: Língua Portuguesa, Matemática e História	Entrega:12/11/2021	
Habilidades: (EF12LP01), (EF01MA10), (EF01HI07)		
Devolutiva: enviar as fotos das atividades no whatsapp da professora		

Terça-feira – 09/11/2021 – Língua Portuguesa


LEIA E ENUMERE AS PALAVRAS DE ACORDO COM A LEGENDA.



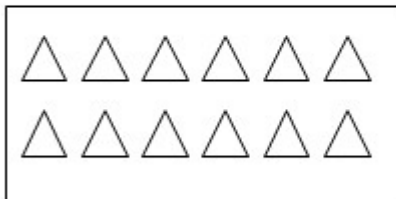
SAPO MACACO COBRA
 TIGRE RAPOSA
 ZEBRA LEÃO URSO

Matemática

CONTE QUANTOS ELEMENTOS HÁ EM CADA GRUPO E LIGUE AO NUMERAL.



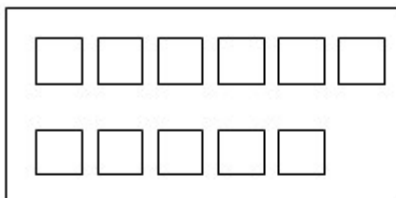
13




10




14



12



15



11

História

**IMAGINE UM RETRATO DA SUA
FAMÍLIA NA MOLDURA ABAIXO:**



ESCOLA MUNICIPAL YOSHIHIKO NARITA

Nome do aluno:		Semana 34
Professor: Valkíria	Data:11/11/2021	Turma: 4º ano
Componente Curricular: Língua Portuguesa, Matemática e Ciências		Entrega:12/11/2021
Habilidades: (EF12LP01), (EF01MA10), (EF01CI05)		
Devolutiva: enviar as fotos das atividades no whatsapp da professora		

Quinta-feira – 11/11/2021 – Língua Portuguesa

COMPLETE A PALAVRA COM A SÍLABA QUE ESTÁ FALTANDO.



GI		FA
----	--	----



MA	CA	
----	----	--




	TO
--	----



VA	
----	--

Matemática

Conte quantas figuras tem em cada conjunto e pinte o quadrinho com o número correspondente.



3	6
5	4



5	4
3	6



6	5
4	3

Ciências

TUDO TEM SUA HORA

DE ACORDO COM A LEGENDA ABAIXO,
IDENTIFIQUE EM QUE PARTE DO DIA VOCÊ
REALIZA SUAS ATIVIDADES A SEGUIR.

	<table border="1"><tr><td>M</td><td>DE MANHÃ</td></tr><tr><td>T</td><td>À TARDE</td></tr><tr><td>N</td><td>À NOITE</td></tr></table>	M	DE MANHÃ	T	À TARDE	N	À NOITE
M	DE MANHÃ						
T	À TARDE						
N	À NOITE						
	<input type="checkbox"/> ASSISTO À TELEVISÃO.						
	<input type="checkbox"/> TOMO CAFÉ.						
	<input type="checkbox"/> TOMO BANHO.						
	<input type="checkbox"/> ALMOÇO.						
	<input type="checkbox"/> ESTUDO.						
	<input type="checkbox"/> BRINCO.						
	<input type="checkbox"/> DURMO.						
	<input type="checkbox"/> ACORDO.						

ESCOLA MUNICIPAL YOSHIHIKO NARITA

Nome do aluno:		Semana 34
Professor: Valkíria	Data:12/11/2021	Turma: 4º ano
Componente Curricular: Língua Portuguesa e Matemática	Entrega:12/11/2021	
Habilidades: (EF12LP01), (EF01MA10)		
Devolutiva: enviar as fotos das atividades no whatsapp da professora		

Sexta-feira – 12/11/2021 – Língua Portuguesa

ORDENE AS SÍLABAS E FORME OS NOMES DOS DESENHOS.



ÃO LE



PO SA RA



VÃO PA



GRE TI

Matemática

PINTE A OPERAÇÃO QUE CORRESPONDE AO RESULTADO.

