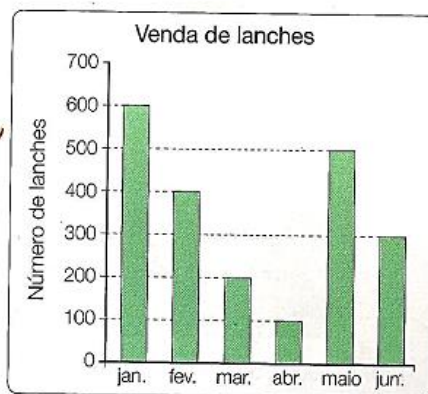


**ESCOLA MUNICIPAL JOÃO MIDOLLA**

NOME DO ALUNO:	DATA: 22/11/21	SEMANA: <b>36</b>  22 a 26/11
PROFESSOR: <i>Erica</i>	TURMA: 5º ANO A	
COMPONENTE CURRICULAR: MATEMÁTICA HABILIDADE: (EF04MA27) Analisar dados apresentados em tabelas simples ou de dupla entrada e em gráficos de colunas ou pictóricos, com base em informações das diferentes áreas do conhecimento, e produzir texto com a síntese de sua análise.	ENTREGAR: 22/11 enviar fotocópia para o whatsapp da professora.	

**PROGRAMA SEQUE**

1º) Observe o gráfico e responda:



a) Quantos lanches foram vendidos nos seguintes meses?

Janeiro \_\_\_\_\_

Abril \_\_\_\_\_

Fevereiro \_\_\_\_\_

Maio \_\_\_\_\_

Março \_\_\_\_\_

Junho \_\_\_\_\_

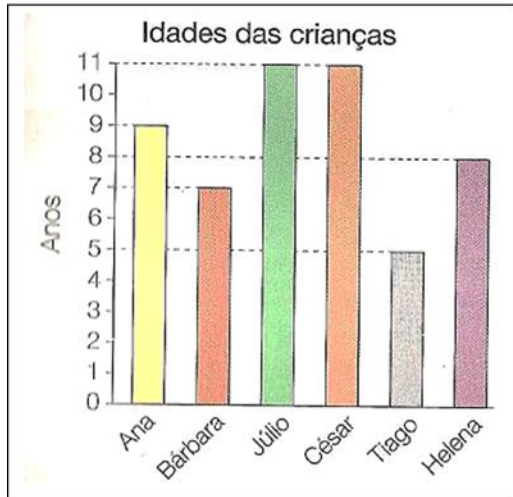
b) Em qual mês foi vendido mais lanche?

\_\_\_\_\_

c) Em qual mês foi vendido menos lanche?

\_\_\_\_\_

2º) Observe o gráfico abaixo e responda.



Escreva a idade das seguintes crianças:

a) Ana \_\_\_\_\_

b) Bárbara \_\_\_\_\_


c) Júlio \_\_\_\_\_

d) César \_\_\_\_\_

e) Tiago \_\_\_\_\_

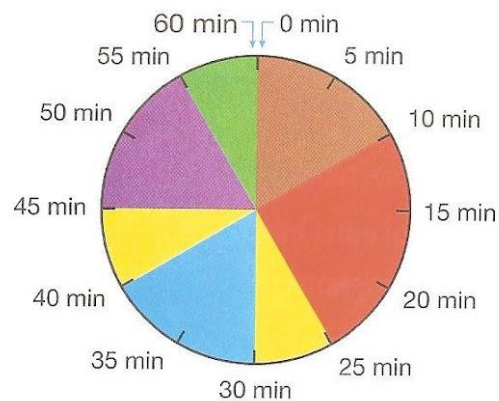
f) Helena \_\_\_\_\_

3º) Veja como o professor de natação organiza as atividades em 1 hora de treino.



PhotoDisc/Getty Images


### Treino de 60 minutos



Editoria de arte

Legenda:

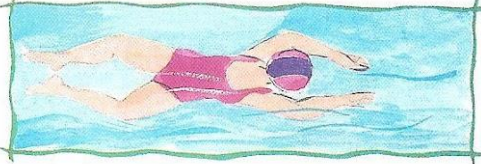
▼ aquecimento fora da piscina




▼ nado de costas



▼ nado de peito




▼ nado borboleta



relaxamento, boiando na piscina



nado livre



Ilustrações: Lúcia Hiratsuka

- Qual é a atividade dos 10 primeiros minutos do treino?
- Quantos minutos os alunos treinam nado:
  - ◆ de peito?
  - ◆ de costas?
  - ◆ borboleta?
  - ◆ livre?
- Quantos minutos são usados para o relaxamento, no qual os alunos ficam boiando na piscina?


4º) Veja o gráfico abaixo.

De acordo com esse gráfico, qual a modalidade esportiva preferida?



- A)  vôlei
- B)  basquete
- C)  futebol
- D)  natação

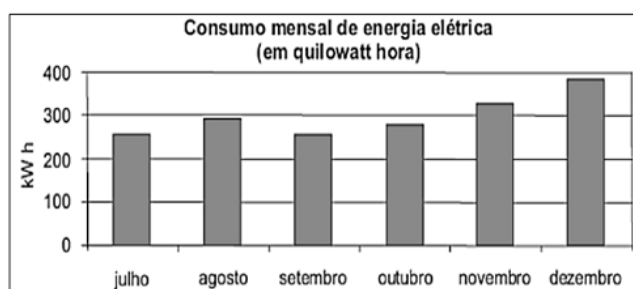
5º) Veja o gráfico mostrando quantas calorias uma pessoa de aproximadamente 75 Kg perde durante uma hora fazendo determinadas atividades.



A atividade que mais gasta calorias é

- A)  cavalgar
- B)  correr
- C)  nadar
- D)  pedalar

6º) Veja o gráfico abaixo. Ele mostra o consumo mensal de energia elétrica em determinado imóvel.



Conforme este gráfico, qual o mês que foi consumido mais energia?

- A)  Agosto
- B)  Dezembro
- C)  Outubro
- D)  Setembro