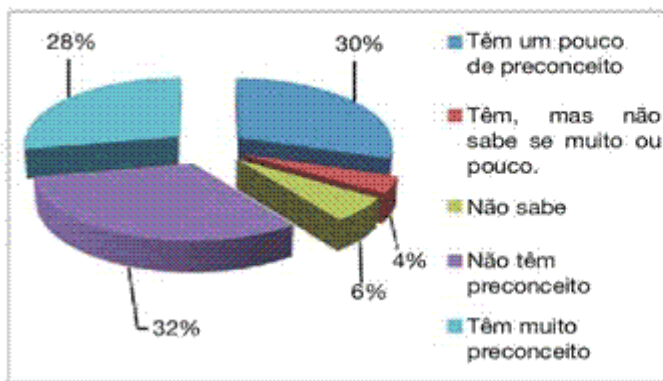


ESCOLA MUNICIPAL JOÃO MIDOLLA		
NOME DO ALUNO:	DATA: 16/11/21	SEMANA: 35 16 a 19/11
PROFESSOR: <i>Erica</i>	TURMA: 5º ANO A	
COMPONENTE CURRICULAR: Matemática HABILIDADE: (EF05MA06) Associar as representações 10%, 25%, 50%, 75% e 100% respectivamente à décima parte, quarta parte, metade, três quartos e um inteiro, para calcular porcentagens, utilizando estratégias pessoais, cálculo mental e calculadora, em contextos de educação financeira, entre outros.		ENTREGAR: 19/11 enviar fotocópia para o whatsapp da professora.

PROGRAMA SEGUE

Leia com atenção e em seguida responda as questões:


Os negros têm preconceito em relação aos brancos?




- Em geral podemos afirmar que os negros também têm preconceito em relação aos brancos? Por quê?
- Você já viu alguma situação de discriminação racial?
- Faça uma reflexão sobre o racismo, descrevendo suas ideias.

2. Pinte na malha o valor correspondente a:


25%



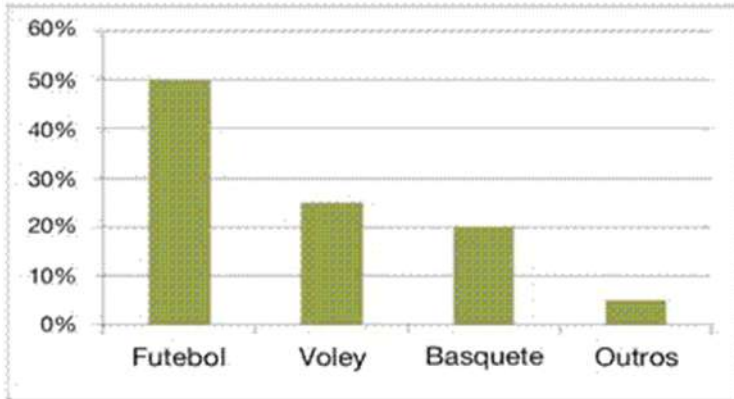
75%



50%



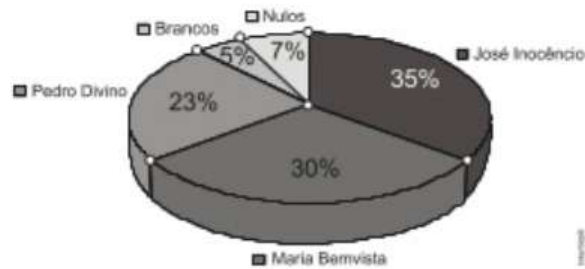
3. Numa escola foi feita uma pesquisa para verificar qual o esporte preferido nas turmas do 6º ano. A porcentagem de alunos que escolheu cada esporte está indicada no gráfico abaixo.



De acordo com o gráfico, é correto afirmar que exatamente 50% dos alunos preferem:

- (A) Futebol.
- (B) Voley.
- (C) Basquete.
- (D) Outros esportes.

4) (IFSP 2013) Numa pesquisa dos candidatos a prefeito de uma cidade, têm-se os candidatos Pedro Divino, Maria Bemvista e José Inocêncio. Com relação ao gráfico das intenções de votos, a seguir, se a cidade possui 50.000 eleitores, o número de votos do candidato mais cotado será



- a) 7.000.
- b) 11.500.
- c) 15.000.
- d) 17.500.
- e) 20.000.

QUALQUER DÚVIDA ESTOU A SUA DISPOSIÇÃO

