



<b>ESCOLA MUNICIPAL JOÃO MIDOLLA.</b>		
Nome do aluno:		<b>Semana 35</b> <b>De 16 a 19 de NOVEMBRO</b>
Professor: Lucilene Sena	Data: 16 /11/2021	<b>Turma: 4º A</b>
Componente Curricular: <b>Língua Portuguesa</b>	Entrega: Semanalmente via Whatts-App da professora.	
<b>PROGRAMA SEGUE:</b> Atividade de intensificação da aprendizagem		
Habilidade: (EF12LP01) Ler palavras novas com precisão na decodificação, no caso de palavras de uso frequente, ler globalmente, por memorização/(EF02LP06) Perceber o princípio acrofônico que opera nos nomes das letras do alfabeto.		
(EF02MA05) Construir fatos básicos da adição e subtração e utilizá-los no cálculo mental ou escrito.		

**LÍNGUA PORTUGUESA**

1. CIRCULE O NOME DAS FIGURAS E COPIE.


  


---


  


---

A	B	A	V	F	G	R	T	U
S	O	L	E	I	T	E	H	K
A	B	A	C	A	X	I	H	J
S	O	R	V	E	T	E	H	J
C	H	O	C	O	L	A	T	E


  



---


  



---

2. COMPLETE COM AS SÍLABAS FALTOSAS.



 \_\_\_\_\_TE

 ABACA \_\_\_\_\_



 \_\_\_\_\_COLATE

 \_\_\_\_\_VETE

3. REESCREVA AS FRASES SUBSTITUINDO OS DESENHOS POR PALAVRAS.

ANA COMPROU  DE 

---

MEU  FAVORITO É AO 

---

## MATEMÁTICA

OBSERVE A IMAGEM, CADA PERSONAGEM ESTÁ COM UMA PLAQUINHA QUE INDICA O RESULTADO DAS OPERAÇÕES. CALCULE E PINTE OS RESULTADOS CORRETAMENTE.

13 17 20 15 18

$10+3=$	$5+7=$	$10+10=$	$5+8=$	$9+9=$
$7+6=$	$8+8=$	$1+19=$	$7+8=$	$13+5=$
$5+9=$	$9+8=$	$5+15=$	$10+5=$	$10+9=$
$11+2=$	$10+7=$	$6+9=$	$2+1=$	$2+6=$
$4+3=$	$11+6=$	$2+12=$	$8+9=$	$11+7=$
$9+4=$	$9+9=$	$11+5=$	$13+2=$	$9+3=$
$2+8=$	$4+5=$	$3+7=$	$6+3=$	$6+8=$

COMPLETE OS MORANGUINHOS COM AS SEMENTINHAS QUE FALTAM PARA QUE TODOS TENHAM A MESMA QUANTIDADE.

$21+ \_ = 30$	$17+ \_ = 30$	$11+ \_ = 30$	$22+ \_ = 30$	$12+ \_ = 30$
$10+ \_ = 30$	$5+ \_ = 30$	$28+ \_ = 30$	$15+ \_ = 30$	$25+ \_ = 30$
$14+ \_ = 30$	$7+ \_ = 30$	$4+ \_ = 30$	$20+ \_ = 30$	$6+ \_ = 30$