

ESCOLA MUNICIPAL JOÃO MIDOLLA.		
Nome do aluno:	Data: 22/11/2021	Semana: 36
Professor: Evilene	Turma: 3º ANO A/B	22/11 A 26/11
Componentes Curriculares: LÍNGUA PORTUGUESA E MATEMÁTICA	Entregar: Diariamente via WhatsApp do professor	
Programa Segue: Atividade de intensificação de aprendizagem	BNCC –(EF03LP11) BNCC – (EF03MA08)	

PORTUGUÊS

DITADOS POPULARES

TROQUE O DESENHO PELA PALAVRA E ESCREVA ABAIXO.

MAS VALE UM




NA MÃO.

DO QUE



VOANDO

QUEM TEM



VAI A ROMA.

CADA



NO SEU



CAÇA PALAVRAS DO DITADO POPULAR

Agora que você já substituiu os desenhos pelas palavras, procure-as no caça abaixo:

P	A	S	S	A	R	O	Y	T	M
C	D	E	T	G	H	J	U	R	A
G	A	L	H	O	W	D	W	S	C
Q	W	E	R	T	Y	O	Y	A	A
Z	X	C	V	B	N	I	S	X	C
Z	X	C	V	B	N	S	N	F	O
B	O	C	A	V	C	D	F	H	R

MATEMÁTICA

Leia com atenção o diálogo:

Carla, eu tenho 6 bonecas.



Sandra, eu tenho a metade do que você tem.



Complete.

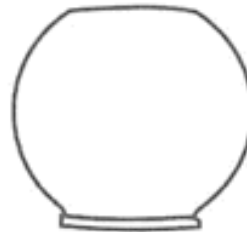

Sandra tem ____ bonecas.

Carla tem ____ bonecas.

A metade de 6 é ____.

Quantas bolinhas estão fora do vidro?

Distribua igualmente essa quantidade de bolinhas nos dois vidros. Faça o desenho da divisão.



Cerque os objetos, separando-os em dois grupos com quantidades iguais.

