

ESCOLA MUNICIPAL JOÃO MIDOLLA.		
Nome do aluno:	Data: 23/11/2021	Semana: 36
Professor: Evilene/Sandra	Turma: 3º ANO A/B	22/11 A 26/11
Componentes Curriculares: MATEMÁTICA	Entregar: Até 26/11/2021	

4ª Avaliação Bimestral 2021 -Matemática



Atenção Pais e Responsáveis!

Nesta semana faremos nossa última avaliação do ano letivo de 2021.

Aqui temos um pequeno resumo de tudo o que vocês estudaram desde o início do ano até este momento. Portanto, pedimos que:

- Incentive-os para a realização de todas as avaliações;
- Não façam as atividades por eles;
- Não induzam as respostas;
- Não os deixem nervosos ou apreensivos se perceberem que alguma questão feita por eles está errada;
- Proporcionem um ambiente tranquilo e silencioso para este momento.
- Elogie-os ao final da avaliação.

Aos alunos:

- ✓ Façam com calma e atenção;
- ✓ Pedimos que façam as atividades de forma independente e somente **solicitem orientação dos pais caso tenham dificuldades na leitura das questões;**
- ✓ Escreva do jeito que você sabe;
- ✓ Calcule do jeito que aprendeu;
- ✓ Não apague seus rascunhos.

Saber como está o aprendizado de vocês é muito importante para nós!

AVALIAÇÃO DE MATEMÁTICA – 4º BIMESTRE

1. **INDIQUE AS HORAS EM CADA RELÓGIO.**



2. **A MÃE DA CAROL COMPROU UNS PRESENTINHOS. VEJA OS PREÇOS:**



ANEL



COLAR



TIARA



BATOM



MARQUE A RESPOSTA CERTA:

a) QUAL FOI O PRESENTE MAIS CARO:

() ANEL () TIARA () BATOM () COLAR



b) ESCREVA O NOME DO PRESENTE MAIS BARATO:

3-QUANTO ELA GASTARIA, SE TIVESSE COMPRADO 2 TIARAS?

() 2 REAIS () 4 REAIS () 3 REAIS

4-QUANTOS REAIS MAMÃE GASTOU AO TODO?

() 20 REAIS () 30 REAIS () 35 REAIS



5. FELIPE FOI À PAPELARIA COM SUA MÃE PARA COMPRAR UM CADERNO, UM LÁPIS, UMA BORRACHA E UM APONTADOR.

VEJA OS PREÇOS DESSES MATERIAIS NA PAPELARIA:



Caderno
R\$ 6,00



Lápis
R\$ 1,50



Borracha
R\$ 2,50



Apontador
R\$ 2,50

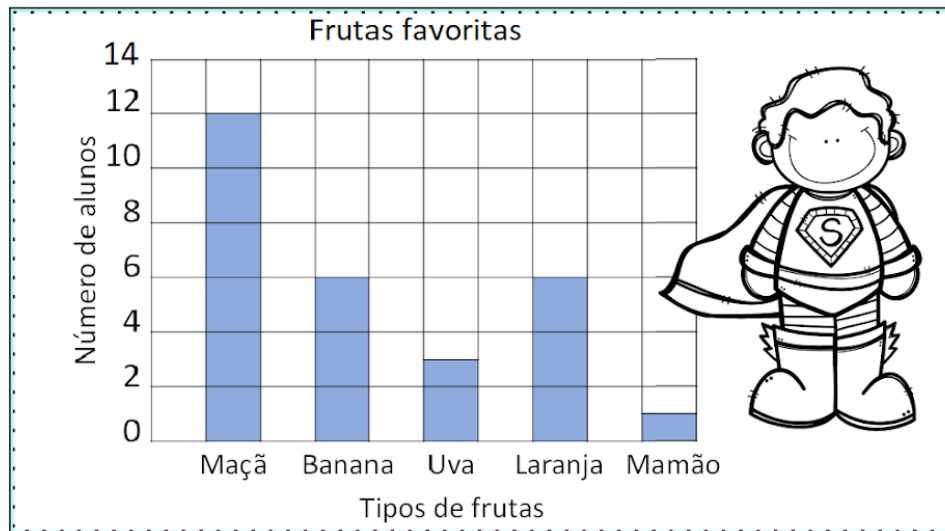
A MÃE DE FELIPE DEU AO CAIXA DA LOJA AS SEGUINTE CÉDULAS:



QUAL FOI O TROCO QUE ELA RECEBEU?

6. UM GRÁFICO USA COLUNAS OU BARRAS PARA MOSTRAR DADOS.

OBSERVE AS INFORMAÇÕES DO GRÁFICO E RESPONDA AS QUESTÕES:



- a) QUANTAS CRIANÇAS GOSTAM DE MAÇÃ? _____
- b) QUANTAS CRIANÇAS GOSTAM DE MAÇÃS E BANANAS? _____
- c) QUANTAS CRIANÇAS GOSTAM DE LARANJA? _____
- d) QUANTAS CRIANÇAS GOSTAM DE BANANA E LARANJA? _____

7. ENCONTRE OS SEGUINTE RESULTADOS DAS MULTIPLICAÇÕES ABAIXO:

Multiplique			
4 × 3 _____	5 × 5 _____	4 × 6 _____	2 × 8 _____
7 × 2 _____	3 × 3 _____	1 × 7 _____	9 × 3 _____

