


Avaliação de matemática

Qual é o número da casa mais perto de Lucas?



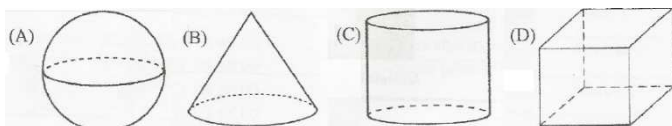
- A) 125 B) 320 C) 415 D) 529

Risque o quadrinho que mostra quem ordenou os números em ordem crescente.

BRUNO	2	13	5	16	28	19
CAIO	28	19	16	13	5	2
DANIEL	2	5	13	16	19	28
FÁBIO	13	16	19	2	28	5

- A) Bruno B) Caio C) Daniel D) Fábio

Qual dos desenhos abaixo representa um cubo?

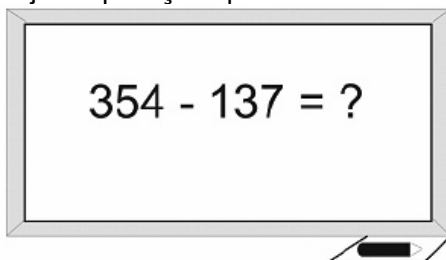


Marisa multiplicou 12 por 3.

Qual é o resultado dessa operação?

- A) 15 B) 30 C) 35 D) 36

Veja a operação que Denise escreveu no quadro abaixo.



Qual é o resultado dessa operação?

- A) 491
B) 481
C) 227
D) 217