



ESCOLA MUNICIPAL MARIA SIQUEIRA DE PAULA

Nome do aluno:	Semana: 37	
Professora: Maria Elizabete Galindo dos Santos Barbosa	Quinta – Feira 30-11-21	Turmas: 3º Ano
Componente Curricular: 3 aulas de Língua Portuguesa	Entrega: Foto/vídeo/ Atividade impressa	
Componente Curricular: 2 aula de Matemática		

Avaliação de língua portuguesa

Leia o texto abaixo.



De acordo com o texto, o Cebolinha quis dizer que

- A) a Mônica tem muitos amigos. B) brincar com os pais é divertido.
C) somente os pais são verdadeiros amigos. D) só os pais da Mônica gostam dela.

Leia o texto abaixo.



De acordo com o texto, Cascão

- A) acha que os animais não precisam de banho.
B) acredita que os animais precisam de banho.
C) concorda com a atitude de seus amigos.
D) leva seu porquinho de estimação para tomar banho.

Leia o texto abaixo.

Mãe,
Hoje chegarei mais tarde. Vou estudar na casa da Márcia.
Beijos,
Lia
P.S.: Já lavei todas as louças.

De acordo com o texto, quem escreveu o bilhete foi

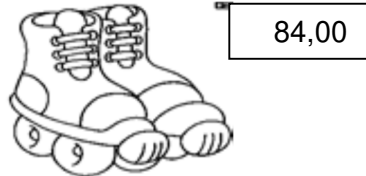
- A) a Lia. B) a Márcia. C) a mãe de Lia. D) a mãe de Márcia.

Avaliação Matemática

A loja “Espaço Kids” pretende renovar seu estoque, por isso alguns produtos estão em promoção, como os patins representados abaixo.

Qual o preço dos patins?

- A) Oitenta e quatro reais.
- B) Oitenta e três reais.
- C) Quarenta e oito reais.
- D) Setenta e quatro reais.



Samuel fez 222 pontos em um jogo de videogame e seu irmão Paulo fez o triplo dessa quantidade. Quantos pontos Paulo conseguiu fazer?

- A) 225.
- B) 444.
- C) 666.
- D) 522.

Veja abaixo a cédula que Helena tinha em sua bolsa. Ela foi ao comércio do Sr. João e pediu para ele trocar essa cédula por três notas de menor valor.



Quais notas Helena recebeu nessa troca?

- A)
- B)
- C)
- D)

As notas e moedas apresentadas abaixo representam a quantidade que Amanda ganhou de sua mãe.



Quantos reais Amanda ganhou de sua mãe?

- A) R\$ 12,00.
- B) R\$ 14,00.
- C) R\$ 15,00.
- D) R\$ 20,00.