





ESCOLA MUNICIPAL MARIA SIQUEIRA DE PAULA

Nome do aluno:		Semana: 36
Professora: Maria Elizabete Galindo dos Santos Barbosa	Atividade Adaptada Segunda	Turmas: 3º Ano 22-11-21
Componente Curricular: Língua Portuguesa	Entrega: Foto/vídeo/ Atividade impressa	
Componente Curricular: Matemática		

AVALIAÇÃO DE LÍNGUA PORTUGUESA

FAÇA UM X NO QUADRADINHO ONDE APARECEM SOMENTE LETRAS.

- A)  B) 
- C)  D) 

VEJA A FIGURA ABAIXO.



QUAL É O NOME DESSA FIGURA?

- A) BICADA
B) BISNAGA
C) PICADA
D) PIRATA

LEIA A PALAVRA:

CANETA

MARQUE X NA QUANTIDADE DE SÍLABAS DA PALAVRA QUE VOCÊ LEU.

- A) 2 B) 3 C) 4 D) 5

AVALIAÇÃO DE MATEMÁTICA

A QUANTIDADE DE ESTRELAS A SEGUIR CORRESPONDE AO NÚMERO:


- (A) 33
- (B) 14
- (C) 15
- (D) 13




RENATO E ALGUNS AMIGOS FORAM AO CAMPO ASSISTIR A UMA PARTIDA DE FUTEBOL. ELES FORAM AO JOGO VESTINDO A CAMISA DO SEU TIME.

O NÚMERO DA CAMISA DE RENATO É:


- (A) VINTE E DOIS
- (B) VINTE E TRÊS
- (C) VINTE E QUATRO
- (D) VINTE E CINCO



A MERENDEIRA DA ESCOLA DE MARCOS SEPAROU ALGUMAS FRUTAS PARA PREPARAR UMA SALADA. IDENTIFIQUE A QUANTIDADE DE CADA TIPO DE FRUTA NO QUADRADO AO LADO.




OBSERVE A RETA NUMÉRICA ABAIXO. ELA ESTÁ DIVIDIDA EM PARTES IGUAIS.



QUAL É O NÚMERO QUE O SÍMBOLO  REPRESENTA NESTA RETA?



- A) 5
- B) 7
- C) 8
- D) 9



ESCOLA MUNICIPAL MARIA SIQUEIRA DE PAULA



Nome do aluno:		Semana: 36
Professora: Maria Elizabete Galindo dos Santos Barbosa	Atividade Adaptada Terça	Turmas: 3º Ano 23-11-21
Componente Curricular: Língua Portuguesa	Entrega: Foto/vídeo/ Atividade impressa	
Componente Curricular:		



AVALIAÇÃO DE LÍNGUA PORTUGUESA

FAÇA UM X NO QUADRADINHO ONDE OS NOMES DAS FIGURAS COMEÇAM COM A MESMA SÍLABA (PEDAÇO).

A)  

B)  

C)  

D)  

● OBSERVE A PALAVRA

SAPATO



LETRA INICIAL

LETRA FINAL

SÍLABA INICIAL

SÍLABA FINAL




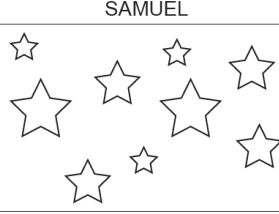
SÍLABA MEDIANA

AVALIAÇÃO DE MATEMÁTICA


OBSERVE ABAIXO AS ESTRELAS DE PAPEL QUE QUATRO AMIGOS RECORTARAM PARA ENFEITAR A SALA DE AULA.

Quem recortou mais estrelas?

- A) JOAQUIM.
- B) MARCELA.
- C) REGINA.
- D) SAMUEL.

	
MARCELA	SAMUEL
	
REGINA	JOAQUIM


VEJA A BRINCADEIRA DE ANA.



FAÇA UM X NO QUADRADINHO DO NÚMERO EM QUE ANA ESTÁ NA BRINCADEIRA.

- (A) 1
- (B) 5
- (C) 6
- (D) 7

ESCOLA MUNICIPAL MARIA SIQUEIRA DE PAULA

Nome do aluno:		Semana: 36
Professora: Maria Elizabete Galindo dos Santos Barbosa	Atividade Adaptada Quarta	Turmas: 3º Ano 24-11-21
Componente Curricular: Interdisciplinar	Entrega: Foto/vídeo/ Atividade impressa	
Componente Curricular:		

AVALIAÇÃO DE LÍNGUA PORTUGUESA

LEIA O TEXTO ABAIXO.



QUAL É A MENSAGEM DESSE TEXTO?

- A) ATENÇÃO COM OS ANIMAIS AQUÁTICOS.
- B) CUIDADO COM A POLUIÇÃO DAS ÁGUAS.
- C) É NECESSÁRIO PRATICAR ESPORTES.
- D) É PROIBIDO NADAR NESSE LOCAL.

LEIA O TEXTO ABAIXO.

ADOÇÃO EM SANTA MARIA - RS

Oi amigos! Sou a Lua! Sou linda demais, não?
Tenho 2 aninhos, sou de porte médio e já estou castrada! É o suficiente para você se apaixonar?



QUERO GANHAR SEU CORAÇÃO, ME ADOTA, VAI?? PROMETO SER PARA SEMPRE A SUA MELHOR AMIGA!!

Contato com a Liziane pelo fone (11) 1111.1111 ou com a Marlene – e-mail: mmmmm@yahoo.com.br

FAÇA UM ANIMAL FELIZ! ADOTE!

ESSE TEXTO É

- A) UM ANÚNCIO.
- B) UM CONVITE.
- C) UMA PLACA.
- D) UMA TIRINHA.

AVALIAÇÃO DE MATEMÁTICA


TODOS OS DIAS ANITA, CAROLINA, LAURA E SOFIA BRINCAM JUNTAS. HOJE ELAS RESOLVERAM CONTAR AS BONECAS PARA SABER QUEM TEM A MESMA QUANTIDADE. OBSERVE ABAIXO.



QUAIS DESSAS MENINAS TEM A MESMA QUANTIDADE DE BONECAS?

- A) ANITA E CAROLINA.
- B) ANITA E SOFIA.
- C) CAROLINA E LAURA.
- D) LAURA E SOFIA.


Observe abaixo os potes de iogurte que quatro crianças compraram.



QUAL FOI A CRIANÇA QUE COMPROU O MAIOR POTE DE IOGURTE?

- A) CARLA.
- B) JOSÉ.
- C) MARISA.
- D) PAULO.


OBSERVE ABAIXO UMA CAIXA COM 6 LÁPIS.



MATEUS COMPROU 2 CAIXAS IGUAIS A ESSA.
QUANTOS LÁPIS, AO TODO, MATEUS COMPROU?

- A) 6
- B) 8
- C) 11
- D) 12

ESCOLA MUNICIPAL MARIA SIQUEIRA DE PAULA

Nome do aluno:		Semana: 36
Professora: Maria Elizabete Galindo dos Santos Barbosa	Atividade Adaptada Quinta	Turmas: 3º Ano 25-11-21
Componente Curricular: Interdisciplinar	Entrega: Foto/vídeo/ Atividade impressa	
Componente Curricular: Matemática		

AVALIAÇÃO DE LÍNGUA PORTUGUESA


VEJA A CENA ABAIXO.



FAÇA UM X NA FRASE QUE CONTA O QUE ACONTECE NESSA CENA.

- A) OS HOMENS BUSCAM A GATA.
- B) OS HOMENS CORREM NA ESTRADA.
- C) OS HOMENS GOSTAM DA MATA.
- D) OS HOMENS PULAM A ESCADA.

FAÇA UM X NO QUADRINHO EM QUE A FRASE CORRESPONDE COM A FIGURA.



- DONA GALINHA TEM AGORA MUITOS PINTINHOS.
- DONA GALINHA BOTOU VÁRIOS OVOS.
- ELA CHOCOU TODOS ELES.

AVALIAÇÃO DE MATEMÁTICA

A SEQUÊNCIA NUMÉRICA ABAIXO COMEÇA NO NÚMERO 28 E TERMINA NO NÚMERO 32.

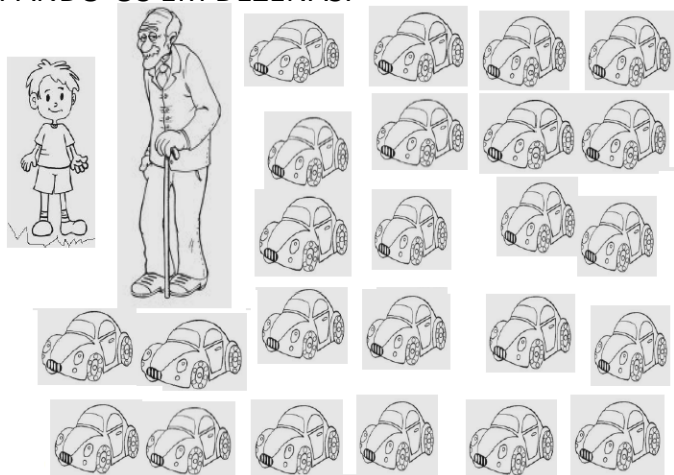


QUAL É O NÚMERO QUE COMPLETA ESSA SEQUÊNCIA?

- A) 33
- B) 31
- C) 27
- D) 13

O AVÔ DE VINÍCIUS TEM UMA COLEÇÃO DE CARRINHOS QUE GUARDA DESDE CRIANÇA. DESCUBRA QUANTOS CARRINHOS HÁ NA COLEÇÃO AGRUPANDO-OS EM DEZENAS.

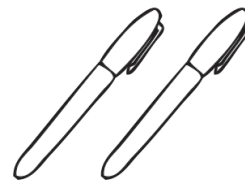
- (A) 24 DEZENAS DE CARRINHOS
- (B) 2 DEZENAS E 4 UNIDADES DE CARRINHOS
- (B) 4 DEZENAS E 2 UNIDADES DE CARRINHOS
- (D) 20 UNIDADES DE CARRINHOS



ROBERTA GUARDOU EM SEU ESTOJO APENAS LÁPIS E CANETAS. ELA GUARDOU ALGUNS LÁPIS E AS 2 CANETAS REPRESENTADAS ABAIXO.

AO TODO, ROBERTA TEM 9 OBJETOS NO ESTOJO.
QUANTOS LÁPIS ROBERTA TEM EM SEU ESTOJO?

- A) 9
- B) 7
- C) 5
- D) 2



OBSERVE A CONTA ABAIXO.

$$16 + 3$$

QUAL É O RESULTADO DESSA CONTA?

- A) 13
- B) 16
- C) 18
- D) 19


RESOLVA A OPERAÇÃO ABAIXO.

$$\begin{array}{r} 12 \\ - 5 \\ \hline \end{array}$$






QUAL É O RESULTADO DESSA OPERAÇÃO?

- A) 3
- B) 7
- C) 8
- D) 9

ESCOLA MUNICIPAL MARIA SIQUEIRA DE PAULA

Nome do aluno:		Semana: 36
Professora: Maria Elizabete Galindo dos Santos Barbosa	Atividade Adaptada Sexta	Turmas: 3º Ano 26-11-21
Componente Curricular: Português	Entrega: Foto/vídeo/ Atividade impressa	
Componente Curricular: Matemática		

AVALIAÇÃO DE LÍNGUA PORTUGUESA

FIGURA	COLORIR AS LETRAS QUE FORMAM A PALAVRA	ESCREVER A PALAVRA
	P O I E X B E	_____
	O K J U S R E	_____
	O O D L V R P	_____
	E S M Z E A W	_____
	O O A F C G P	_____

AVALIAÇÃO DE MATEMÁTICA

A FIGURA A SEGUIR REPRESENTA UMA EMBALAGEM UTILIZADA PARA ACOMODAR QUATRO BOLAS DE TÊNIS?


QUAL O TOTAL DE BOLAS EM TRÊS EMBALAGENS IGUAIS.

A) 20 BOLAS


B) 16 BOLAS

C) 12 BOLAS

D) 10 BOLAS



VEJA AS BOLAS QUE PEDRO TINHA PARA VENDER.



HOJE PEDRO JÁ VENDEU A METADE DAS BOLAS.

QUANTAS BOLAS PEDRO JÁ VENDEU?

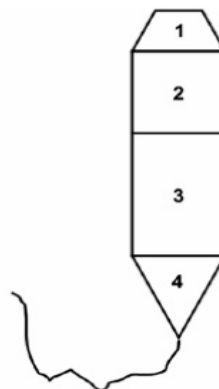
(A) 2

(B) 3

(C) 4

(D) 5

ROGÉRIO MONTOU UMA PIPA, USANDO PEÇAS COM FIGURAS GEOMÉTRICAS, COMO MOSTRA O DESENHO ABAIXO.



NESSA PIPA, QUAL É A PEÇA QUE TEM A FORMA DE TRIÂNGULO?

]A) PEÇA 1.

B) PEÇA 2.

C) PEÇA 3.

D) PEÇA 4.