


ESCOLA MUNICIPAL MARIA SIQUEIRA DE PAULA

Nome do aluno:		Semana: 35	
Professora: Maria Elizabete Galindo dos Santos Barbosa		Atividade Adaptada	
		Terça	
Componente Curricular: Língua Portuguesa		Entrega: Foto/vídeo/ Atividade impressa	
Componente Curricular:			

O RATO DO CAMPO E O RATO DA CIDADE

ORDENE AS SÍLABAS E FORME AS PALAVRAS.



JÃO

FEI



PO

CAM



LO

BO



TA

POR







A


LEI

GE

ESCREVA AS SÍLABAS QUE FALTAM.

			
_____TO	QUEI_____	_____RIZ	_____DA_____

ESCOLA MUNICIPAL MARIA SIQUEIRA DE PAULA

Nome do aluno:		Semana: 35 Turmas: 3º Ano 17-11-21
Professora: Maria Elizabete Galindo dos Santos Barbosa	Atividade Adaptada Quarta	
Componente Curricular: Língua Portuguesa	Entrega: Foto/vídeo/ Atividade impressa	
Componente Curricular:		

LEIA AS PALAVRAS ABAIXO

CÃO



TOUCINHO



FEIJÃO



ALIMENTOS




AGORA, ESCREVA AS PALAVRAS NAS COLUNAS ADEQUADAS, DE ACORDO COM A QUANTIDADE DE SÍLABAS.


1 SÍLABA	2 SÍLABAS	3 SÍLABAS	4 SÍLABAS

QUAL DAS PALAVRAS ACIMA TÊM O MAIOR NÚMERO DE SÍLABAS?

LIGUE AS FIGURAS QUE RIMAM.




ESCOLA MUNICIPAL MARIA SIQUEIRA DE PAULA

Nome do aluno:		Semana: 35
Professora: Maria Elizabete Galindo dos Santos Barbosa	Atividade Adaptada Quinta	Turmas: 3º Ano 18-11-21
Componente Curricular: Matemática	Entrega: Foto/vídeo/ Atividade impressa	
Componente Curricular:		

MATEMÁTICA

O RATINHO DO CIDADE TEVE QUE IR AO MERCADO. ELE LEVOU R\$ 10,00 PARA COMPRAR COMIDA, QUANDO CHEGOU LÁ, OBSERVOU OS VALORES DE ALGUNS PRODUTOS QUE MAIS GOSTA.

PÃO	QUEIJO	GELEIA	DOCE
			
			
R\$ 2,00	R\$ 3,00	R\$ 11,00	R\$ 4,00

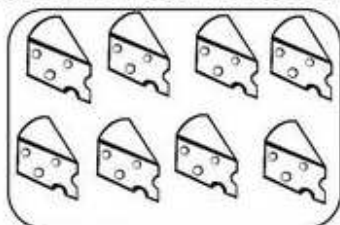
AGORA, RESPONDA AS PERGUNTAS ABAIXO:

1- QUAIS PRODUTOS ELE CONSEGUIU COMPRAR COM O DINHEIRO QUE LEVOU?

2- QUANTO SOBROU DE TROCO?


R\$

3- O RATINHO DO CAMPO ADORA COMER QUEIJO NO CAFÉ DA MANHÃ. NA MESA DA SUA CASA TINHAM 8 QUEIJOS SUCULENTOS, COMO ELE ESTAVA COM MUITA FOME RESOLVEU COMER 5. QUANTOS QUEIJOS FICARAM EM CIMA DA MESA?



$$\square - \square = \square$$

ESCOLA MUNICIPAL MARIA SIQUEIRA DE PAULA

Nome do aluno:		Semana: 35
Professora: Maria Elizabete Galindo dos Santos Barbosa	Atividade Adaptada Sexta	Turmas: 3º Ano 19-11-21
Componente Curricular: Português	Entrega: Foto/vídeo/ Atividade impressa	
Componente Curricular:		

AGORA, QUE VOCÊ OUVIU A FÁBULA DO RATO DO CAMPO E DO RATO DA CIDADE. QUE TAL DARMOS UM NOME PARA CADA RATINHO?



CRIE OS DIALÓGOS ENTRE OS PERSONAGEM DA FÁBULA.

