


**ESCOLA MUNICIPAL MARIA SIQUEIRA DE PAULA**

Nome do aluno:		<b>Semana: 37</b>
Professora: Neili da Silva Moreira	<b>Terça - Feira</b>	Turmas: 2º Ano
Componente Curricular: 2 aula de Matemática	Entrega: Foto/vídeo/ Atividade impressa	
Prova de recuperação		

SEPARE EM CENTENA, DEZENA E UNIDADE.

LEONOR TEM  
**235**  
CARRINHOS DE BRINQUEDO



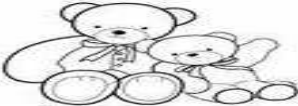
<b>C</b>	<b>D</b>	<b>U</b>

BIANCA TEM  
**35**  
BICICLETAS



<b>C</b>	<b>D</b>	<b>U</b>

CAROLINA TEM  
**160**  
URSIINHOS DE PELÚCIA





<b>C</b>	<b>D</b>	<b>U</b>

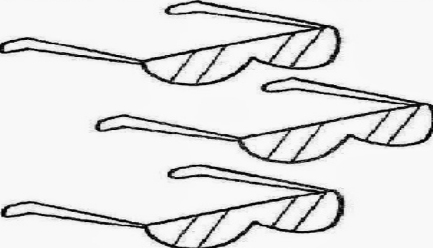
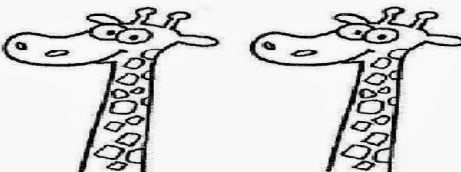
RICARDO TEM  
**407**



<b>C</b>	<b>D</b>	<b>U</b>

2- RESOLVA A OPERAÇÃO

		<div style="border: 1px solid black; width: 100px; height: 100px; margin: 0 auto;"></div>
<div style="border: 1px solid black; width: 100px; height: 40px; margin: 0 auto;"></div>	<b>+</b>	<div style="border: 1px solid black; width: 100px; height: 40px; margin: 0 auto;"></div>
<b>=</b>		


		<div style="border: 1px solid black; width: 100px; height: 100px; margin: 0 auto;"></div>
<div style="border: 1px solid black; width: 100px; height: 40px; margin: 0 auto;"></div>	<b>+</b>	<div style="border: 1px solid black; width: 100px; height: 40px; margin: 0 auto;"></div>
<b>=</b>		

3- OBSERVE OS DESENHOS E COMPLETE OS FATOS


$8 - 6 = \dots\dots\dots$



$15 - 4 = \dots\dots\dots$



$18 - 8 = \dots\dots\dots$



$11 - 2 = \dots\dots\dots$



4- RESOLVA A DIVISÃO DISTRIBUINDO POR IGUAL OS PRODUTOS EM CADA CESTA.

**DIVISÃO**

2. DIVIDA IGUALMENTE AS PERAS NAS CESTAS



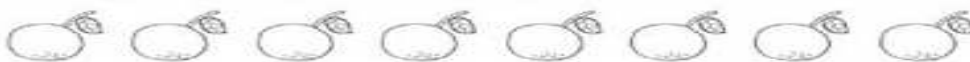
CADA CESTA FICOU COM \_\_\_\_\_ PERAS

3. DIVIDA IGUALMENTE AS BOLAS NAS CAIXAS









CADA CAIXA FICOU COM \_\_\_\_\_ BOLAS

1. DIVIDA IGUALMENTE AS LARANJAS NAS CAIXAS



CADA CAIXA FICOU COM \_\_\_\_\_ LARANJAS

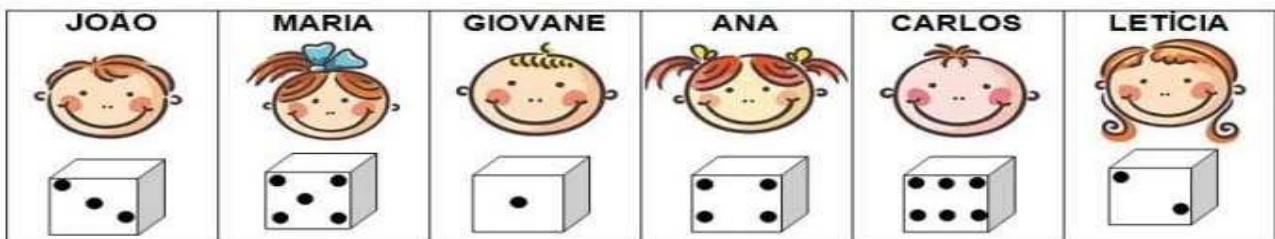
5- RESOLVA AS OPERAÇÕES CORESPONDENTES DENTRO DE CADA BALÃO.



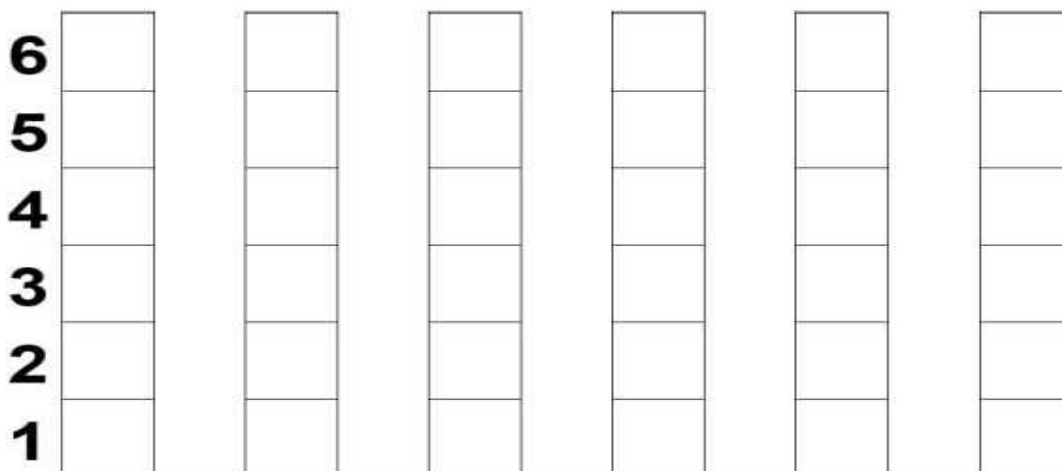
6-

MARIA E SEUS AMIGOS ESTAVAM BRINCANDO DE VER QUEM CONSEGUIA MAIS PONTOS AO LANÇAR UM DADO.


OBSERVE ABAIXO E DESCUBRA QUANTOS PONTOS CADA CRIANÇA CONSEGUIU:



• AGORA, COMPLETE O GRÁFICO ABAIXO DE ACORDO COM O NÚMERO DE PONTOS, QUE CADA CRIANÇA TIROU, NESTA BRINCADEIRA:



7- OBSERVE O CALENDÁRIO E MARQUE UM X NA OPÇÃO CORRETA.



## NOVEMBRO

DOM	SEG	TER	QUA	QUI	SEX	SÁB
1	2	3	4	5	6	7
8	9	10	11	12	13	14
15	16	17	18	19	20	21
22	23	24	25	26	27	28
29	30					

QUANTOS DIAS TÊM NO MÊS DE NOVEMBRO?

- A ) 30 DIAS (    )
- B) 29 (    )
- C) 34 (    )
- D) 36 (    )

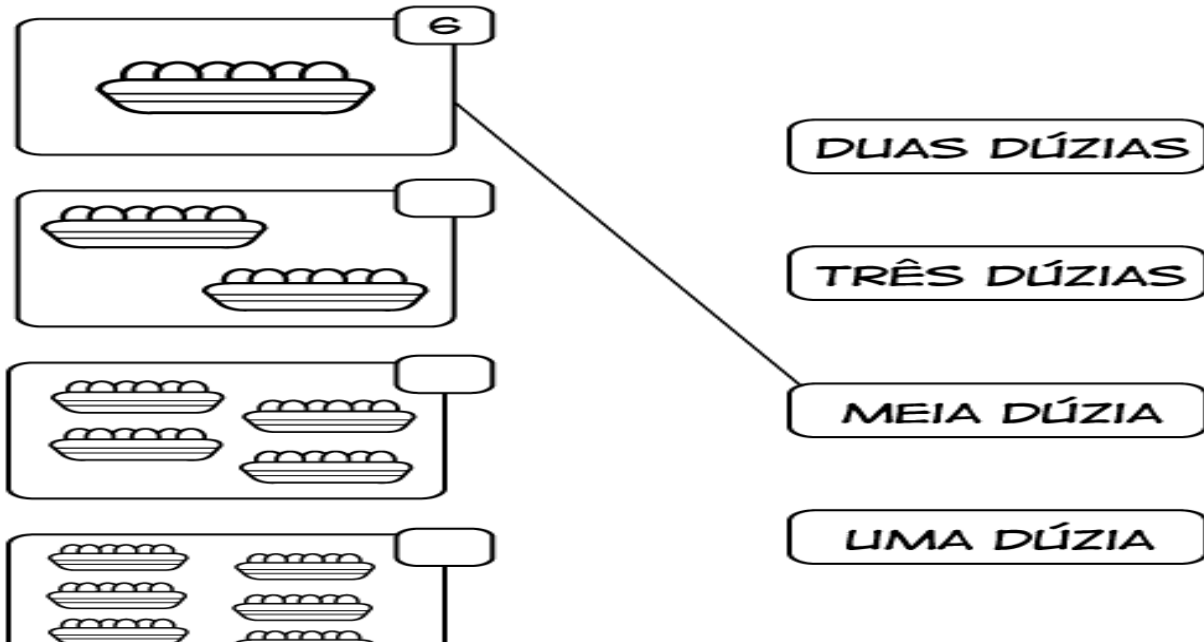
O DIA 06 CAI EM QUAL DIA DA SEMANA ?

-----

QUANTOS DOMINGOS EXISTEM NO MÊS DE NOVEMBRO ?

-----

8- LIGUE CADA IMAGEM DE ACORDO COM A QUANTIDADE EXISTENTE EM CADA CAIXA DE OVOS. DE ACORDO COM AS SUAS DÚZIAS.



6

DUAS DÚZIAS

TRÊS DÚZIAS

MEIA DÚZIA

LIMA DÚZIA

9- LIGUE OS PONTOS DE ACORDO COM O VALOR DAS NOTAS



• R\$ 50,00

• R\$ 100,00

• R\$ 2,00

• R\$ 5,00

• R\$ 20,00

• R\$ 10,00

10- COLOQUE PONTEIRO NOS HORÁRIOS EM QUE VOCÊ REALIZA AS ATIVIDADES APRESENTADAS NO QUADRINHO ABAIXO.

