




ESCOLA MUNICIPAL MARIA SIQUEIRA DE PAULA

Nome do aluno:		Semana:36
Professora: Neili da Silva Moreira	Terça - Feira	Turmas: 2º Ano
Componente Curricular: INTERDISCIPLINAR	Entrega: Foto/vídeo/ Atividade impressa	

AVALIAÇÃO DE MATEMÁTICA.

- 1- INDIQUE A CASA DAS DEZENAS, CENTENAS E UNIDADES DOS SEGUINTE NÚMEROS.

	CENTENA	DEZENA	UNIDADE
225			
387			
41			
934			
108			
596			

- 2- SEU LUCAS COMPROU 16 PÃES PARA DIVIDIR IGUALMENTE ENTRE SEUS 4 FILHOS. QUANTOS ELE DEVE DAR A CADA UM? QUANTOS PÃES VÃO SOBRAR. ARME A CONTA NO ESPAÇO A BAIXO.

-
- 3- CIDA JUNTOU 124 LATINHAS DE SUCO DE LARANJA E 137 DE SUCO DE LIMÃO PARA A RECICLAGEM. QUANTAS LATINHAS ELA JUNTOU AO TODO? ARME A CONTA NO ESPAÇO A BAIXO PARA RESPONDER À QUESTÃO.



4 – A VAQUINHA PRODUZIU BASTANTE LEITE. VAMOS CIRCULAR
UMA DEZENA DE GARRAFINHAS DE LEITE.

DEZENA



2- AGORA, VAMOS CIRCULAR UMA DÚZIA DE GARRAFINHAS DE LEITE?

DÚZIA





5- OBSERVE O CALENDÁRIO A BAIXO PARA RESPONDER AS QUESTÕES.

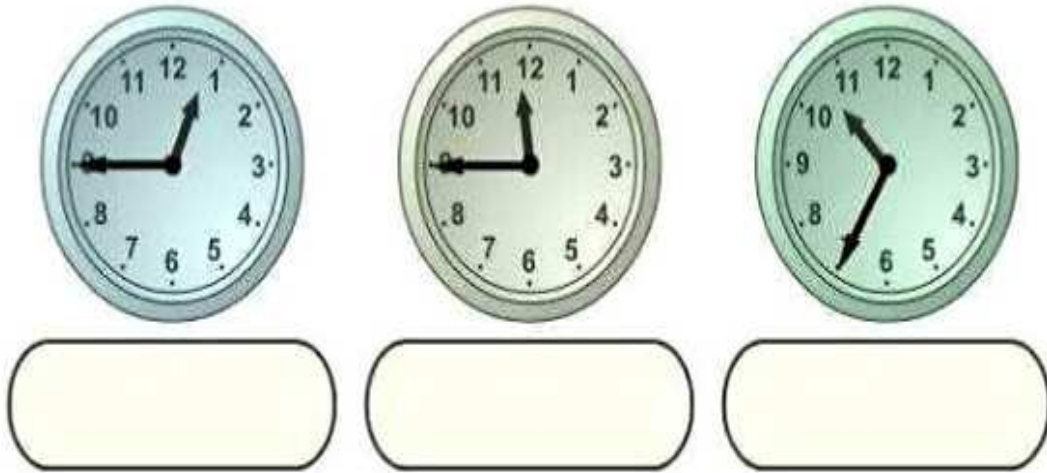
NOVEMBRO							
D	S	T	Q	Q	S	S	
	1	2	3	4	5	6	
7	8	9	10	11	12	13	
14	15	16	17	18	19	20	
21	22	23	24	25	26	27	
28	29	30	<i>2 - FINADOS 15 - PROCL. DA REPÚBLICA 20 - CONCIÊNCIA NEGRA</i>				
●	4 - NOVA	○	19 - CHEIA	○	11 - CRESC.	○	27 - MING.

A) QUANTOS DIAS TÊM NO MÊS DE NOVEMBRO?

B) QUANTOS DOMINGOS EXISTEM NO MÊS DE NOVEMBRO?

C) QUANTOS FERIADOS EXISTEM NO MÊS DE NOVEMBRO?

6- QUE HORAS SÃO?




7- RESOLVA A MULTIPLICAÇÃO ABAIXO.

Multiplicando **x**

1 - Calcule as multiplicações:

The flower has a central petal with $5 \times$. Other petals contain: $3 =$, $= 8$, $7 =$, $= 9$, and $6 =$. Each of these is followed by an empty box. To the right of the flower is a vertical multiplication problem: $\begin{array}{r} \square \\ \times 5 \\ \hline 3 \end{array}$. At the bottom of the stem are four horizontal multiplication problems: $\begin{array}{r} \times 5 \\ 6 \\ \hline \end{array}$, $\begin{array}{r} \times 5 \\ 7 \\ \hline \end{array}$, $\begin{array}{r} \times 5 \\ 8 \\ \hline \end{array}$, and $\begin{array}{r} \times 5 \\ 9 \\ \hline \end{array}$.

8-O GRÁFICO ABAIXO REPRESENTA A IDADE DAS SEGUINTESS CRIANÇAS.



A) QUANTOS ANOS TÊM A CRIANÇA MAIS NOVA?

.....

B) QUANTOS ANOS TÊM A CRIANÇA MAIS VELHA?

.....

C) QUANTOS ANOS Á MAIS LEO TEM DE BETE?

.....

9- CIRCULE OS NÚMEROS PARES

2 8 7 9 4 6



CIRCULE OS NÚMEROS ÍMPARES

7 9 3 1 2 6

10-JOÃO GANHOU DINHEIRO DA SUA VÓ. OBSERVE AS NOTAS ABAIXO E INDIQUE A QUANTIA POR ELE RECEBIDA.

