


**ESCOLA MUNICIPAL MARIA SIQUEIRA DE PAULA**


Nome do aluno:		<b>Semana:37</b>
Professora: Celene	<b>Terça - Feira</b> 30/11/2021	Turmas: 1º Ano
Componente Curricular: 4 aulas de Língua Portuguesa	Entrega: Foto/vídeo/ Atividade impressa	
Componente Curricular: 1 aula de Matemática		

**AVALIAÇÃO DE MATEMÁTICA 4º BIMESTRE**

1-COPIE OS NÚMEROS QUE A PROFESSORA VAI DITAR.



--	--	--	--	--	--	--	--	--	--

2-QUAL O TOTAL DAS JOANINHAS? \_\_\_\_\_




A) QUANTOS AGRUPAMENTOS DE 10 FORAM FORMADOS \_\_\_\_\_ -

3- MARCOS TEM 2 COLEÇÕES DE MINIATURAS DE BICHINHOS E RESOLVEU GUARDÁ-LOS.

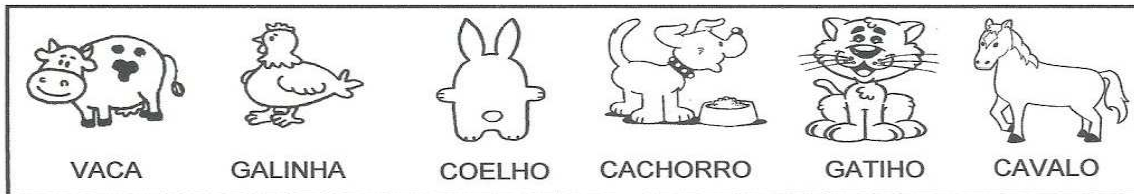


QUANTAS MINIATURAS MARCOS GUARDOU? \_\_\_\_\_

4-CAROLINA TINHA 20 BOLINHOS E COMEU 5. COM QUANTOS BOLINHOS CAROLINA FICOU?






5- OBSERVE OS ANIMAIS DO SÍTIO E DEPOIS RESPONDA AO QUE SE PEDE





- A) QUAL É O PRIMEIRO ANIMAL DA FILA? \_\_\_\_\_  
 B) QUAL ANIMAL ESTÁ DE COSTAS? \_\_\_\_\_  
 C) QUAL ANIMAL ESTÁ ENTRE A GALINHA E O CACHORRO? \_\_\_\_\_  
 D) QUAL É O ÚLTIMO ANIMAL? \_\_\_\_\_  
 E) QUAL ANIMAL ESTÁ SE ALIMENTANDO? \_\_\_\_\_

6- MARIA E SEU PAI ADORAM PESCAR, AJUDE-OS A SOMAR QUANTOS PEIXES ELES PEGARAM.



PESQUEI   
 PAPAI PESCOU MAIS   
 JUNTOS PESCAMOS  PEIXES

$\underline{\quad} + \underline{\quad} = \underline{\quad}$

PESQUEI   
 PAPAI PESCOU MAIS   
 JUNTOS PESCAMOS  PEIXES

$\underline{\quad} + \underline{\quad} = \underline{\quad}$

7-OBSERVE O CALENDÁRIO E PINTE:

## NOVEMBRO

DOM	SEG	TER	QUA	QUI	SEX	SÁB
1	2	3	4	5	6	7
8	9	10	11	12	13	14
15	16	17	18	19	20	21
22	23	24	25	26	27	28
29	30					

- A) PINTAR DE AZUL TODOS OS DOMINGOS DO MÊS DE NOVEMBRO  
 B) CIRCULAR O ÚLTIMO DIA DO MÊS