



## ESCOLA MUNICIPAL MARIA SIQUEIRA DE PAULA

Nome do aluno:		<b>Semana:36</b>
Professora: Celene	<b>Terça - Feira</b> 23/11/2021	Turmas: 1º Ano
Componente Curricular: 4 aulas de Língua Portuguesa	Entrega: Foto/vídeo/ Atividade impressa	
Componente Curricular: 1 aula de Matemática		

### AVALIAÇÃO DE MATEMÁTICA 4º BIMESTRE

OBSERVE A IMAGEM ABAIXO DAS BANANAS QUE A SARA COMPROU.



1- DE ACORDO COM ESSA IMAGEM, QUANTAS BANANAS FORAM COMPRADAS?

A 21

B 22

C 23

D 24

2- OBSERVE OS NÚMEROS NO QUADRO ABAIXO, CIRCULE QUAL É O MAIOR.

5 - 6 - 15 - 9

3- OBSERVE A DECOMPOSIÇÃO DE UM NÚMERO. ESSA É A DECOMPOSIÇÃO DE QUAL NÚMERO?

20+4

A 24

B 42

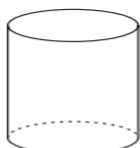
C 204

D 402

4- OBSERVE A CAIXA QUE LAURA GANHOU COM SEU PRESENTE. A FORMA DESSA CAIXA LEMBRA QUAL FIGURA GEOMÉTRICA?



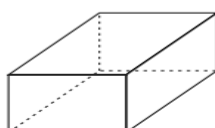
A



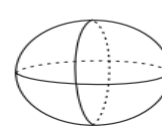
B



C



D



5- OBSERVE A QUANTIA QUE MAIARA LEVOU PARA COMPRAR LEGUMES NA FEIRA.



QUAL FOI A QUANTIA QUE MAIARA LEVOU?

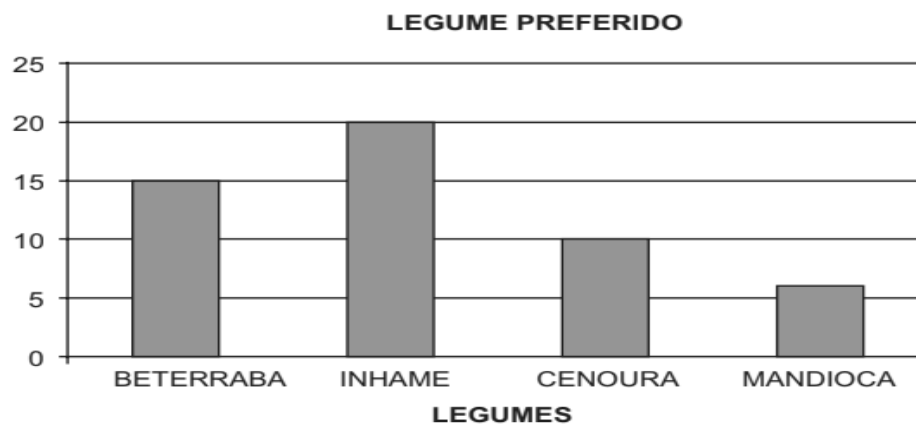
A 2 REAIS

B 5 REAIS

C 20 REAIS

D 50 REAIS

6- OBSERVE O GRÁFICO DE PREFERÊNCIA DE ALGUMAS CRIANÇAS POR LEGUMES. DE ACORDO COM O GRÁFICO, QUAL É O LEGUME PREFERIDO PELA MAIOR QUANTIDADE DE CRIANÇAS?



A BETERRABA.

B CENOURA.

C INHAME.

D MANDIOCA

7- RESOLVA A CONTA ABAIXO

$7+6$

A 25

B 19

C 14

D 13

8- MARIANA COMPROU 12 BANANAS. ELA COMEU 2 DESSAS BANANAS, QUANTAS SOBRARAM?