













ESCOLA MUNICIPAL MANOEL BAPTISTA DA SILVA		
Nome do aluno:		Semana 33
Professor: Bárbara Laginestra	Data: 12/11/2021	Turma: Jardim II
Campos de Experiência: Espaços, tempo, quantidades, relações e transformações.		

Sexta – feira, 12 de novembro de 2021

NÚMEROS ESCONDIDOS OBSERVE O QUADRO NUMÉRICO. ESCREVA QUAL É O NÚMERO QUE CADA DINOSSAURO ESTÁ ESCONDENDO.

1	2	3		5
6	7	8	9	
11	12		14	15
	17	18	19	20
21		23	24	25
26	27	28		30

Hora da história: <https://youtu.be/pZ758YXhReQ>