

ESCOLA MUNICIPAL FIORINDO RONCON

Nome do aluno:

Semana 37

Professor: CRISTIANA, VALÉRIA E VALQUÍRIA.

Data: 02/12/2021

Turma: JARDIM II A, B e C.

CAMPOS DE EXPERIÊNCIA: “ESPAÇOS, TEMPOS, QUANTIDADES, RELAÇÕES E TRANSFORMAÇÕES”

O GATO XADREZ.

OBSERVE A CENA E RESPONDA AS QUESTÕES ABAIXO:



1- QUANTOS GATOS HÁ NA CENA?

2- QUANTOS GATOS ESTÃO DEITADOS?

3- QUANTAS ORELHAS TEM UM GATO?




4- JUNTANDO AS ORELHAS DE TODOS OS GATOS DA IMAGEM, QUANTAS ORELHAS TEMOS AO TODO?

VAMOS CONTAR DE **2 EM 2** E PREENCHER A TABELA DO NÚMERO 2 AO NÚMERO 30

2			8	
	14			
		26		



CONTE E ESCREVA O NÚMERO DE GATOS DE CADA CONJUNTO, DEPOIS LIGUE AO NUMERAL CORRESPONDENTE:

			
<input type="text"/>	<input type="text"/>	<input type="text"/>	<input type="text"/>