

ESCOLA MUNICIPAL ENGENHEIRO CARLOS ROHM – UNIDADE I

NOME DO ALUNO:

SEMANA 36

22 A 26/11/2021.

PROFESSORAS: ANA, DAYANE, DENISE,
CINTIA.

PROJETO SEGUE










TURMA: 2º ANOSA,
B, C, D.

COMPONENTE CURRICULAR:
PORTUGUÊS

ENTREGA: **ENVIAR NO E-MAIL DA
PROFESSORA ATÉ O DIA 26/11/2021**

ATIVIDADES DE PORTUGUÊS

1. LEIA E PINTE A FIGURA QUE CORRESPONDE A PALAVRA.

 ANÃO AVIÃO SABÃO	 NAJA ASA ANJO	 ASTRO ASTRONAUTA ASTUTO
 JACA VACA JACARÉ	 MACA MAÇÃ UVA	 FOMIGA FORMIGA BESOURO
 LIXA TINTA LIXO	 VIOLÃO SABÃO SANFONA	 VELA FOGO FOGÃO

2. OBSERVE A PALAVRA **SAPATO** E RESPONDA:

5. OBSERVE A PALAVRA

SAPATO 

LETRA INICIAL

LETRA FINAL

SÍLABA INICIAL

SÍLABA FINAL

SÍLABA MEDIANA



ATENÇÃO! NÃO PRECISA FAZER IMPRESSÃO. PODE FAZER DIRETO EM SEU CADERNO.

ESCOLA MUNICIPAL ENGENHEIRO CARLOS ROHM – UNIDADE I

NOME DO ALUNO:

SEMANA 36
22 A 26/11/2021.

PROFESSORAS: ANA, DAYANE, DENISE, CINTIA.

PROJETO SEGUE MATEMÁTICA

TURMA: **2º ANOS**
A, B, C, D.

COMPONENTE CURRICULAR:
MATEMÁTICA

ENTREGA: **ENVIAR NO E-MAIL DA PROFESSORA ATÉ O DIA 26/11/2021.**

ATIVIDADE DE MATEMÁTICA

1. ESCREVA QUEM VEM ANTES E DEPOIS.
2. CONTE QUANTOS SÃO E REGISTRE.



	14	
	7	
	19	
	30	

www.alfabetizacaoonline.com

QUANTOS SÃO?

3. LIGUE AS PEÇAS DO MATERIAL DOURADO COM O NUMERAL CORRESPONDENTE:

	<input type="text" value="13"/>
	<input type="text" value="22"/>
	<input type="text" value="28"/>
	<input type="text" value="34"/>
	<input type="text" value="36"/>
	<input type="text" value="45"/>

NÃO PRECISA FAZER IMPRESSÃO DA ATIVIDADE. PODE FAZER DIRETAMENTE EM SEU CADERNO.