

ESCOLA MUNICIPAL ENGENHEIRO CARLOS ROHM – UNIDADE I


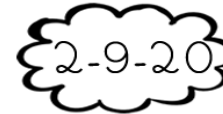





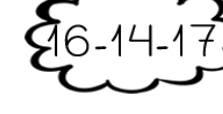
NOME DO ALUNO:

SEMANA 35
16 a 19/11/2021.PROFESSORAS: ANA, DAYANE, DENISE,
CINTIA.**PROJETO SEGUE**TURMA: **2º ANOS**
A, B, C E D.COMPONENTE CURRICULAR:
PORTUGUÊSENTREGA: **ENVIAR NO E-MAIL DA**
PROFESSORA ATÉ O DIA 19/11/2021.**ATIVIDADE DE PORTUGUÊS**

1. LEIA AS SÍLABAS.
2. DEPOIS JUNTE AS SÍLABAS CONFORME OS NUMERAIS E FORME PALAVRAS:

 **NÃO HÁ NECESSIDADE DE IMPRESSÃO. FAÇA DIRETAMENTE EM SEU CADERNO.**

1 BA	2 BO	3 FU	4 DO	5 LA
6 CU	7 MA	8 PI	9 NE	10 TA
11 CE	12 PO	13 ÇA	14 VE	15 PE
16 FI	17 LA	18 TE	19 BA	20 CA

 1-5	 2-9-20
 6-2	 3-7-13
 4-11	 8-12-20
 10-15-18	 16-14-17

ESCOLA MUNICIPAL ENGENHEIRO CARLOS ROHM – UNIDADE I

NOME DO ALUNO:

SEMANA 35
16 A 19/11/2021.

PROFESSORAS: ANA, DAYANE, DENISE,
CINTIA.

PROJETO SEGUE

TURMA: 2º ANOS
A, B, C, D.


COMPONENTE CURRICULAR:
MATEMÁTICA

ENTREGA: **ENVIAR NO E-MAIL DA**
PROFESSORA ATÉ O DIA 19/11/2021.


ATIVIDADE DE MATEMÁTICA



OBSERVE A CASA DOS PORQUINHOS E, DEPOIS, CONTE OS ELEMENTOS QUE APARECEM NA CENA.



2) ESCREVA, ABAIXO, O NUMERAL QUE CORRESPONDE A CADA QUANTIDADE.



NÃO HÁ NECESSIDADE DE IMPRESSÃO. PODE FAZER DIRETO EM SEU CADERNO.