













ESCOLA MUNICIPAL ENGENHEIRO CARLOS ROHM – UNIDADE I		
Nome do aluno:		SEMANA 35 16 A 19/11/2021
Professor: Denise, Cintia, Dayane e Ana	Data: 17/11/2021 QUARTA-FEIRA	Turma: 2º Anos A, B, C e D
Componente Curricular: Português e Matemática	Entrega: Enviar no e-mail da professora até 18/11.	

ATIVIDADE DE PORTUGUÊS

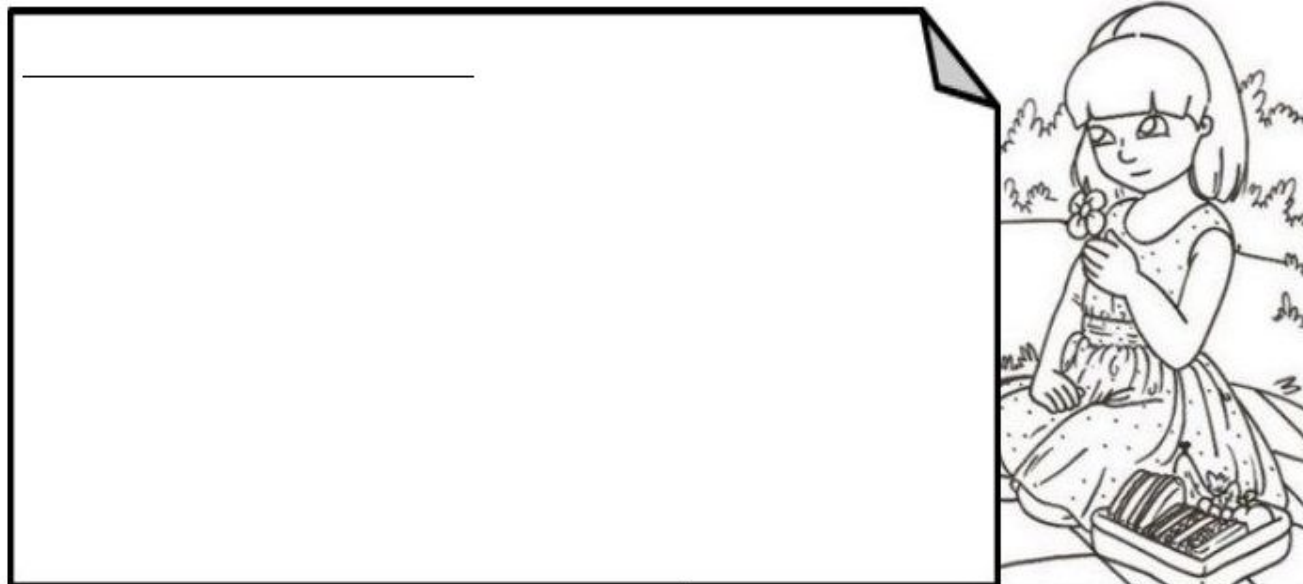
1. COMPLETE AS PALAVRAS COM A SÍLABA QUE FALTA:

	_____ GÃO		_____ TEIRA
	_____ VO		_____ VATA
	ES _____ LA		_____ LO
	_____ FESSOR		_____ TO
	TI _____		_____
	_____ FÊU		_____ XA

2. ESCOLHA CINCO IMAGENS DO EXERCÍCIO ANTERIOR E FORME UMA FRASE PARA CADA UMA

NÃO HÁ NECESSIDADE DE FAZER A IMPRESSÃO DA ATIVIDADE, ELA PODE SER REALIZADA NO CADERNO.

3. JULIANA CONVIDOU SUAS AMIGAS PARA FAZER UM PIQUENIQUE. ANTES DE SAIR ELA PRECISA DEIXAR UM BILHETE PARA SUA MÃE. COMO SERÁ O BILHETE?



ATIVIDADE DE MATEMÁTICA

1. RESOLVA AS ADIÇÕES:

$$\begin{array}{r} 63 \\ + 24 \\ \hline \end{array}$$

$$\begin{array}{r} 42 \\ + 50 \\ \hline \end{array}$$

$$\begin{array}{r} 15 \\ + 63 \\ \hline \end{array}$$

$$\begin{array}{r} 71 \\ + 6 \\ \hline \end{array}$$

$$\begin{array}{r} 45 \\ + 32 \\ \hline \end{array}$$

$$\begin{array}{r} 86 \\ + 12 \\ \hline \end{array}$$

$$\begin{array}{r} 16 \\ + 52 \\ \hline \end{array}$$

$$\begin{array}{r} 45 \\ + 34 \\ \hline \end{array}$$

$$\begin{array}{r} 50 \\ + 19 \\ \hline \end{array}$$

$$\begin{array}{r} 61 \\ + 17 \\ \hline \end{array}$$

$$\begin{array}{r} 42 \\ + 36 \\ \hline \end{array}$$

$$\begin{array}{r} 54 \\ + 22 \\ \hline \end{array}$$

$$\begin{array}{r} 35 \\ + 41 \\ \hline \end{array}$$

$$\begin{array}{r} 27 \\ + 31 \\ \hline \end{array}$$

$$\begin{array}{r} 30 \\ + 49 \\ \hline \end{array}$$

$$\begin{array}{r} 15 \\ + 72 \\ \hline \end{array}$$

$$\begin{array}{r} 23 \\ + 54 \\ \hline \end{array}$$

$$\begin{array}{r} 41 \\ + 18 \\ \hline \end{array}$$

$$\begin{array}{r} 20 \\ + 59 \\ \hline \end{array}$$

$$\begin{array}{r} 62 \\ + 16 \\ \hline \end{array}$$

$$\begin{array}{r} 44 \\ + 33 \\ \hline \end{array}$$

$$\begin{array}{r} 51 \\ + 26 \\ \hline \end{array}$$

$$\begin{array}{r} 36 \\ + 61 \\ \hline \end{array}$$

$$\begin{array}{r} 25 \\ + 42 \\ \hline \end{array}$$

$$\begin{array}{r} 72 \\ + 12 \\ \hline \end{array}$$

NÃO HÁ NECESSIDADE DE FAZER A IMPRESSÃO DA ATIVIDADE, ELA PODE SER REALIZADA NO CADERNO.