



Nome do aluno:		Semana 35
Professor: Mirianne, Mara, Elaine e Patrícia	Data: 19/11/2021	Turma: 4º ano A, B, C e D
Componente Curricular: Matemática.		Entrega: foto da atividade via e-mail da professora
Projeto Segue.		

Sexta-feira

MULTIPLICAÇÃO? É LEGAL!

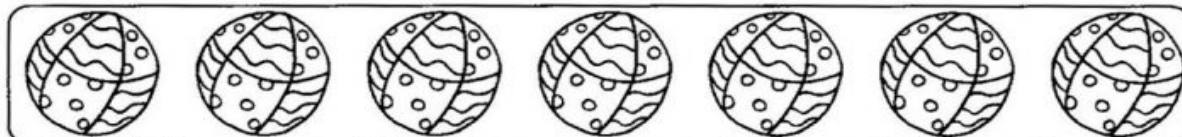
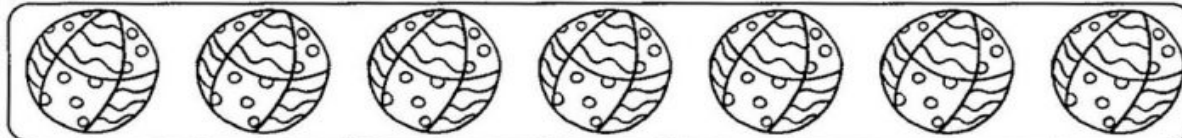
Observe as ilustrações e responda efetuando as multiplicações abaixo:

1- Há quantos picolês no total?



$$\square \times \square = \square$$

2- Quantas bolas há ao todo?



$$\square \times \square = \square$$

3- Qual o número total de crianças abaixo?



$$\square \times \square = \square$$