


Nome do aluno:	<b>Semana 35</b>	
Professor: Mirianne, Mara, Elaine e Patrícia	Data: 19/11/2021	Turma: 4º ano A, B, C e D
Componente Curricular: Língua Portuguesa	Entrega: foto da atividade via e-mail da professora	

**Sexta-feira**



**Leitura e Interpretação de texto**  
**Conto popular**

**VAMOS USAR O LIVRO DIDÁTICO!**



**Orientações:** Você fará a leitura do conto popular nas páginas 206, 207 e 209 do livro didático de Língua Portuguesa e depois responderá os exercícios da página 208.

Bons estudos!

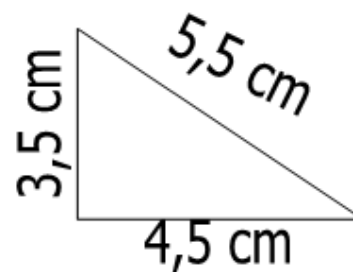
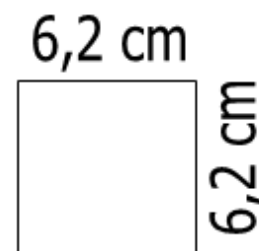
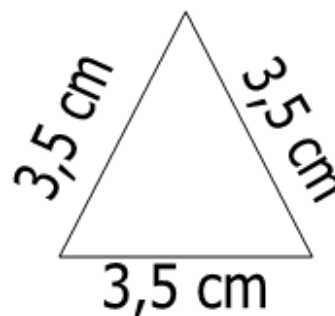
Nome do aluno:	<b>Semana 35</b>	
Professor: Mirianne, Mara, Elaine e Patrícia	Data: 19/11/2021	Turma: 4º ano A, B, C e D
Componente Curricular: Matemática.	Entrega: foto da atividade via e-mail da professora	

Sexta-feira



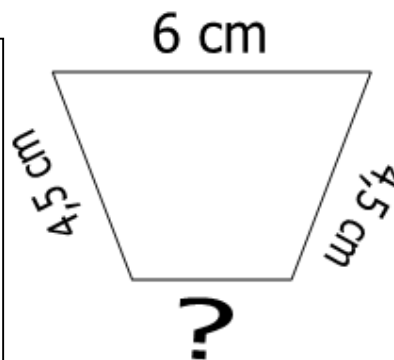

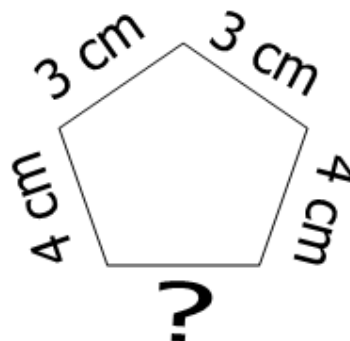

## TREINANDO PERÍMETROS

Calcule o perímetro dos polígonos abaixo.



Bons estudos!

Cada imagem abaixo deve ter 18 cm de perímetro. Observe as partes de perímetro já dadas e descubra a medida oculta:



Use sua régua e crie polígonos com medidas reais, que tenham os perímetros sugeridos.

a. Faça um polígono de quatro lados, com 12 centímetros de perímetro:

b. Faça um polígono de três lados, com 9 centímetros de perímetro: