


Nome do aluno:		Semana 34
Professor: Mirianne, Mara, Elaine e Patrícia	Data: 08/11/2021	Turma: 4º ano A, B, C e D
Componente Curricular: Língua Portuguesa	Entrega: foto da atividade via e-mail da professora	

Segunda-feira

Conto de suspense
Interpretação de texto



VAMOS USAR O LIVRO DIDÁTICO!



Orientações: Ler o conto de suspense das páginas 176 e 177, depois resolver os exercícios das páginas 177 a 179 do livro didático de Língua Portuguesa.

Bons estudos!

Nome do aluno:	Semana 34	
Professor: Mirianne, Mara, Elaine e Patrícia	Data: 08/11/2021	Turma: 4º ano A, B, C e D
Componente Curricular: Matemática.	Entrega: foto da atividade via e-mail da professora	

Segunda-feira

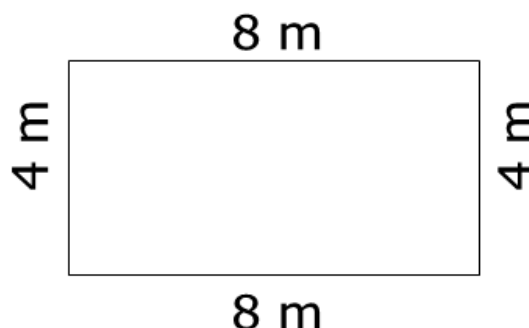


Perímetro - O Canil de Nicole

Nicole resolveu fazer melhorias em seu canil. Para começar, ela adotou alguns cachorros e antes que ele os traga para o canil, quer fazer um cercado para os animais.

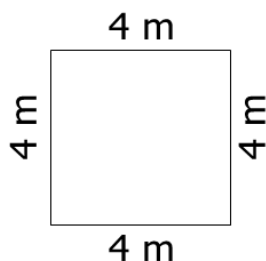
Para calcular a quantidade de material do cercado, ele precisa saber o perímetro da cerca do canil. Perímetro? Mas... o que é perímetro?

Perímetro é a medida de comprimento de um contorno ou a soma das medidas dos lados de uma figura plana.



Para calcular o perímetro, basta somar as medidas dos lados da figura. Qual será o perímetro do canil dos cachorros?

Nicole terminou o canil dos cachorros e ficou muito feliz com o resultado. Chegou o momento de investir agora em gatil para os gatinhos que adotou. Observe a representação e calcule o perímetro do cercado do gatil.



O TRABALHO NOSSO DE CADA DIA

Qual é o seu ofício?

Livro didático **p. 188**

Solicitar aos alunos que tragam para a sala entrevistas referentes a profissão que desejam se aprofundar.

Bons estudos!