

ESCOLA MUNICIPAL ENGENHEIRO CARLOS ROHM I

Nome do aluno:	Data: 29/11/2021	Semana: 37
Professor: Eliane, Marina, Cilene e Andréia	Turma: 3.º Anos: A,B,C e D	
Componentes Curriculares: Matemática	Entregar: Via E-mail até dia 30/11/21	

AVALIAÇÃO DE MATEMÁTICA – 4º BIMESTRE



1- FAÇA O QUE SE PEDE.

A) CONTE A QUANTIDADE DE LETRAS DAS PALAVRAS.

MENINA

LAÇO

COELHO

2- COMPLETE A SEQUÊNCIA NUMÉRICA DO NÚMERO 1 AO 30.

1	2				6
7			10		
13		15		17	
	20				24
					30

3- RESOLVA OS PROBLEMINHAS.


A) A MENINA COLOCOU 10 JABUTICABAS NUMA CESTA E 5 JABUTICABAS EM OUTRA CESTA. QUANTAS JABUTICABAS ELA TÊM AO TODO?

FAÇA CONTINHAS OU DESENHO.

B) A MAMÃE DA MENINA COLOCOU 18 LACINHOS NO CABELO DELA. A MENINA FOI BRINCAR COM O COELHO E CAIU 9 LACINHOS. QUANTOS SOBRARAM EM SEU CABELO?

FAÇA CONTINHAS OU DESENHO.

4- OBSERVE A IMAGEM E FAÇA O QUE SE PEDE.



QUANTAS XÍCARAS TEM AO TODO? _____

2- QUANTAS XÍCARAS CHEIAS ?

3- QUANTAS XÍCARAS VAZIAS ?

CALCULE.

$$\begin{array}{|c|} \hline \text{3 bows} \\ \hline \end{array} + \begin{array}{|c|} \hline \text{4 bows} \\ \hline \end{array} = \begin{array}{|c|} \hline \square \\ \hline \end{array}$$

$$\begin{array}{|c|} \hline \text{6 bows} \\ \hline \end{array} + \begin{array}{|c|} \hline \text{2 bows} \\ \hline \end{array} = \begin{array}{|c|} \hline \square \\ \hline \end{array}$$

BOA PROVA!

ESCOLA MUNICIPAL ENGENHEIRO CARLOS ROHM I

Nome do aluno:	Data: 30/11/2021	Semana: 37
Professor: Eliane, Marina, Cilene e Andréia	Turma: 3.º Anos: A,B,C e D	
Componentes Curriculares: Língua Portuguesa	Entregar: Via E-mail até dia 01/12/21	

AVALIAÇÃO DE LÍNGUA PORTUGUESA – 4º BIMESTRE

1- OUÇA COM ATENÇÃO O RESUMO DA HISTÓRIA A MENINA BONITA DO LAÇO DE FITA.

MENINA BONITA DO LAÇO DE FITA

ERA UMA VEZ UMA MENINA LINDA, LINDA. SEUS OLHOS PARECIAM DUAS AZEITONAS PRETAS DAQUELAS BEM BRILHANTES.

SEUS CABELOS ERAM ENROLODINHOS E BEM NEGROS. A PELE ERA ESCURA E LUSTROSA QUE NEM O PÊLO DA PANTERA NEGRA.

DO LADO DE SUA CASA MORA UM COELHO, ELE ERA APAIXINADO PELA MENINA E QUERIA DESCOBRIR COMO FICAR NEGRO.

NO FINAL O COELHO ENTENDEU QUE CADA UM TEM A COR HERDADA DE SEUS ANTEPASSADOS E PARA ELE TER FILHOS ESCUROS COMO A NOITE PRECISA CASAR-SE COM UMA COELHA PRETINHA.



2- RESPONDA:

A) COMO ERAM OLHOS DA MENINA?

() PARECIAM DUAS UVAS VERDES.



() PARECIAM DUAS AZEITONAS PRETAS.




B) COMO ERAM OS CABELOS DA MENINA?

() ENROLODINHOS E NEGROS.




() LONGOS E NEGROS.

2- FAÇA O QUE SE PEDE:

- ❖ QUAL A LETRA INICIAL?
- ❖  QUANTAS LETRAS?
- ❖  QUANTAS SÍLABAS?

 _____
LAÇO  _____
 _____

 _____
JABUTICABA  _____
 _____

 _____
COELHO  _____
 _____

3- LIGUE A FIGURA AO SEU NOME.



TINTA

COELHO

LAÇO

CAFÉ

MENINA

JABUTICABA

4- LEIA E DESENHE.

MENINA

COELHO

JABUTICABA

5- ESCREVA O NOME DAS FIGURAS.









ESCOLA MUNICIPAL ENGENHEIRO CARLOS ROHM I

Nome do aluno:	Data: 01/12/2021	Semana: 37
Professor: Eliane, Marina, Cilene e Andréia	Turma: 3.º Anos: A,B,C e D	
Componentes Curriculares: Língua Portuguesa	Entregar: Via E-mail até dia 02/12/21	

LÍNGUA PORTUGUESA

1- PINTE CADA SÍLABA QUE FORMA O NOME DA FIGURA.



GA FI CA CO FÉ



ME MO NI NA NE



GO LA TO BO ÇO



TO VA TIN PA TA



CO E NO LHO LO



JA DA BU TI PA CA BA

2- CIRCULE O NOME DAS IMAGENS.



CAFU CAFÉ CABO



MENINA MENINO MELADO