

ESCOLA MUNICIPAL ENGENHEIRO CARLOS ROHM I

Nome do aluno:	Data: 16/11/2021	Semana: 35
Professor: Eliane, Marina, Cilene e Andréia	Turma: 3.º Anos: A,B,C e D	
Componentes Curriculares: Língua Portuguesa	Entregar: Via E-mail até dia 17/11/21	

LÍNGUA PORTUGUESA

PROCLAMAÇÃO DA REPÚBLICA



NO DIA 15 DE NOVEMBRO DE 1859, O MARECHAL DEODORO DA FONSECA E SEUS SOLDADOS ATRAVESSARAM O CAMPO DE SANTANA E SOBRE O CAVALO TIROU O CHAPÉU E PROCLAMOU "VIVA A REPÚBLICA". ELE SE TORNOU O PRIMEIRO PRESIDENTE DO BRASIL. ASSISTA AO VÍDEO COM A HISTÓRIA DA PROCLAMAÇÃO DA REPÚBLICA.




<https://www.youtube.com/watch?v=WLBKBBp1y94>

1-PINTE NO TEXTO ACIMA O NOME DO MÊS DA PROCLAMAÇÃO DA REPÚBLICA.

2- QUAL DIA ACONTECEU A PROCLAMAÇÃO DA REPÚBLICA. MARQUE COM UM **X**.

- () DIA 05
() DIA 15
() DIA 25

3- QUANTAS LETRAS E QUANTAS SÍLABASTEM NAS PALAVRAS ?

PALAVRA	LETRAS	SÍLABAS
 BRASIL		
 15 NOVEMBRO		
 REPÚBLICA		

4- COMPLETE A LETRA INICIAL DAS PALAVRAS ABAIXO:

_____RASIL

_____OVEMRO

_____EPÚBLICA

_____ARECHAL _____EODORO DA _____ONSECA


ESCOLA MUNICIPAL ENGENHEIRO CARLOS ROHM I

Nome do aluno:	Data: 17/11/2021	Semana: 35
Professor: Eliane, Marina, Cilene e Andréia	Turma: 3.º Anos: A,B,C e D	
Componentes Curriculares: Matemática	Entregar: Via E-mail até dia 18/11/21	

MATEMÁTICA

ESSE É O MARECHAL DEODORO DA FONSECA, UNS DOS PRINCIPAIS RESPONSÁVEIS PELA PROCLAMAÇÃO DA REPÚBLICA.

OBSERVE OS MARECHAIS ABAIXO E FAÇA O QUE SE PEDE:



- RISQUE OS MARECHAIS MAIORES.
- PINTE OS MARECHAIS MENORES.
- QUANTOS MARECHAIS MAIORES? _____ QUANTOS MENORES? _____
- QUANTOS MARECHAIS APARECEM NO TOTAL NA IMAGEM ACIMA? _____

CIRCULE O MARECHAL DIFERENTE E PINTE OS DOIS QUE SÃO IGUAIS.



MATEMÁTICA

ESCOLA MUNICIPAL ENGENHEIRO CARLOS ROHM I

Nome do aluno:	Data: 18/11/2021	Semana: 35
Professor: Eliane, Marina, Cilene e Andréia	Turma: 3.º Anos: A,B,C e D	
Componentes Curriculares: Matemática	Entregar: Via E-mail até dia 19/11/21	

1- OBSERVE O CALENDÁRIO A SEGUIR E RESPONDA:

CALENDARIO
2021



NOVEMBRO

DATAS COMEMORATIVAS DO MÊS

02 – FINADOS 15 PROCLAMAÇÃO DA REPÚBLICA
20 – CONSCIÊNCIA NEGRA



DOM	SEG	TER	QUA	QUI	SEX	SAB
	1	2	3	4	5	6
7	8	9	10	11	12	13
14	15	16	17	18	19	20
21	22	23	24	25	26	27
28	29	30				

A) NESTA SEMANA FOI COMEMORADO A...

- () INDEPENDÊNCIA DO BRASIL
() CONCIÊNCIA NEGRA
() PROCLAMAÇÃO DA REPÚBLICA

B) A PROCLAMAÇÃO DA REPÚBLICA FOI COMEMORADA NO DIA...

- () 2 DE NOVEMBRO
() 15 DE NOVEMBRO
() 20 DE NOVEMBRO

C) AMANHÃ DIA DEZENOVE DE NOVEMBRO SERÁ COMEMORADO O DIA DA BANDEIRA, PINTE NO CALENDARIO ESSE NÚMERO.

2- PINTE O MARECHAL MAIOR E CIRCULE O MENOR.



ESCOLA MUNICIPAL ENGENHEIRO CARLOS ROHM I

Nome do aluno:	Data: 19/11/2021	Semana: 35
Professor: Eliane, Marina, Cilene e Andréia	Turma: 3.º Anos: A,B,C e D	
Componentes Curriculares: Língua Portuguesa	Entregar: Via E-mail até dia 22/11/21	

LÍNGUA PORTUGUESA

19 DE NOVEMBRO – DIA DA BANDEIRA



DESDE BEM PEQUENO
DEVEMOS APRENDER
QUE AMAR A BANDEIRA
É O NOSSO DEVER!

- PASSE O LÁPIS NO PONTILHADO PARA COMPLETAR A BANDEIRA DO NOSSO PAÍS E DEPOIS FAÇA UM BELO COLORIDO NO DESENHO.

