

ESCOLA MUNICIPAL ENGENHEIRO CARLOS ROHM – UNIDADE I

NOME DO ALUNO:

SEMANA 36

**PROFESSORAS: TALITA, MARISTELA,
ALESSANDRA, VALÉRIA E RAQUEL.**

**DATA: 23/11/21
TERÇA-FEIRA**


TURMA: 1º _____

**COMPONENTE CURRICULAR:
PORTUGUÊS E MATEMÁTICA**

**ENTREGA: DO DIA 24/11 a 25/11(TERÇA-
FEIRA), 11HRS AM TIRAR FOTO E ENVIAR POR E-
MAIL.**

ATIVIDADES DE LÍNGUA PORTUGUESA – TERÇA-FEIRA

VAMOS USAR O LIVRO DIDÁTICO!



VAMOS REVISAR SOBRE CALENDÁRIO

FAÇA O EXERCÍCIO DO LIVRO DIDÁTICO ÁPIS " LÍNGUA PORTUGUESA"

PÁGINA 171- EXERCÍCIO 7 (A, B, C, D)

**OBS: A EXPLICAÇÃO DOS EXERCÍCIOS SERÁ REALIZADA NA VÍDEOAULA
PELA PROFESSORA.**

**A CRIANÇA DEVERÁ ASSISTIR AO VÍDEO EXPLICATIVO, POIS NÃO SERÁ
POSSÍVEL REALIZAR AS ATIVIDADES SEM A EXPLICAÇÃO DA
PROFESSORA.**

ATIVIDADES DE MATEMÁTICA – TERÇA-FEIRA

1) VAMOS RESOLVER AS SITUAÇÕES- PROBLEMA ABAIXO

FRANJINHA FEZ 5 BOLHAS DE SABÃO GRANDES E 5 PEQUENAS.
QUANTAS BOLHAS ELE FEZ NO TOTAL?



NO JOGO DE XADREZ "CEBOLINHA" FEZ 2 PONTOS E "CASCÃO" FEZ 8.
QUANTOS PONTOS ELES FIZERAM JUNTOS?



CHICO BENTO SAIU PARA PÊSCARIA . NO RIO TINHA 2 PEIXES E ELE
PESCOU 1. QUANTOS PEIXES TEM AO TODO?



A TURMINHA ESTÁ JOGANDO CARTAS. AS MENINAS FIZERAM 9
PONTOS E OS MENINOS 3 . QUANTOS PONTOS ELES FIZERAM NO
TOTAL?




CRÉDITOS: <https://3.bp.blogspot.com/-xEc8FdbiTv0/WP5nFtJQppl/AAAAAAAA00U/UCenkbiYk50uwlSoqSMePfhf-hlLkBBhgCLcB/s1600/Slide3.JPG>

2) RESOLVA AS SUBTRAÇÕES

A) HAVIA UM GRUPO DE 8 ABELHAS. DUAS FORAM EMBORA.

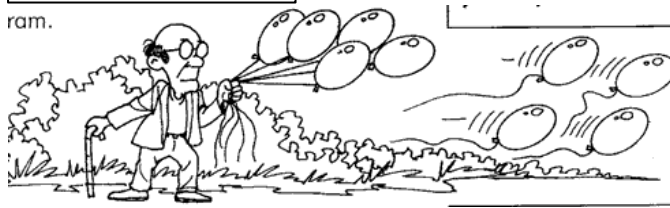
$$8-2=$$



B) UM VELHINHO ESTAVA COM 9 BALÕES NA MÃO, 4 VOARAM.

$$9-4=$$

ram.



C) UM MENINO TINHA 7 BOLINHAS. PERDEU 2.

$$7-2=$$



D) HAVIA 5 PIPAS NO AR, 1 ARREBENTOU A LINHA.

$$5-1=$$



OBS: A EXPLICAÇÃO DOS EXERCÍCIOS SERÁ REALIZADA NA VÍDEOAULA PELA PROFESSORA.

A CRIANÇA DEVERÁ ASSISTIR AO VÍDEO EXPLICATIVO, POIS NÃO SERÁ POSSÍVEL REALIZAR AS ATIVIDADES SEM A EXPLICAÇÃO DA PROFESSORA.