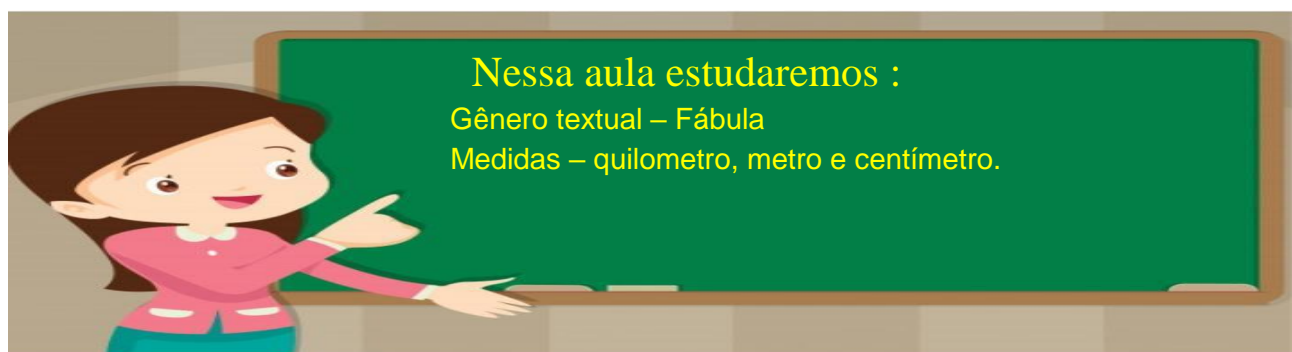


ESCOLA MUNICIPAL PROFESSOR ANTONIO LACERDA BACELLAR

Nome do aluno:	Data: 24/11/2021	Semana:36
Professor: Claudia/Rosana	Turmas: 4ºanosA/B	
Componentes Curriculares: Língua Portuguesa- Matemática	Entregar:Correção via Meet/Grupo da sala	



Quarta – Feira

Escreva a data e a rotina no caderno.

Língua Portuguesa – Fazer a leitura da Fábula – A cigarra e a formiguinha, copiar o texto e as questões no caderno e responder - GÊNERO TEXTUAL – Fábula.

Matemática – Copiar as atividades no caderno inclusive os desenhos, sobre medidas.

Boa atividade!!!!



LÍNGUA PORTUGUESA

A fábula é uma narrativa em prosa que é desenvolvida com personagens humanos e seres irracionais, os quais, a partir de suas ações, transmitem diversos valores sociais.

A CIGARRA E A FORMIGA RUTH ROCHA

A CIGARRA PASSOU TODO O VERÃO CANTANDO, ENQUANTO A FORMIGA JUNTAVA SEUS GRÃOS.

QUANDO CHEGOU O INVERNO A CIGARRA VEIO À CASA DA FORMIGA PARA PEDIR QUE LHE DESSE O QUE COMER.

A FORMIGA ENTÃO PERGUNTOU A ELA:

- E O QUE É QUE VOCÊ FEZ DURANTE TODO O VERÃO?

- DURANTE O VERÃO EU CANTEI – DISSE A CIGARRA.

E A FORMIGA RESPONDEU:

- MUITO BEM, POIS AGORA DANCE!



Responda:

1. O que a formiga fez no verão?

2. O que a cigarra fez no verão?

3. Por que a formiga não deu comida à cigarra?

4. O que você acha que aconteceu à cigarra?

5. Se você fosse a formiga, daria comida à cigarra? Por quê?

MATEMÁTICA

LEBRANDO

1 quilômetro (Km) = 1000 metros

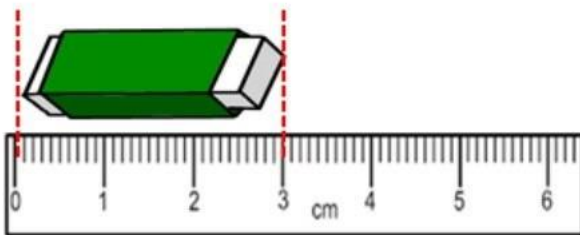
1 metro (m) = 100 centímetros

1 centímetro (cm) = 10 milímetros (mm)

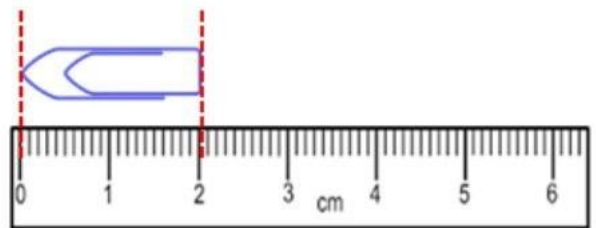


VAMOS MEDIR?

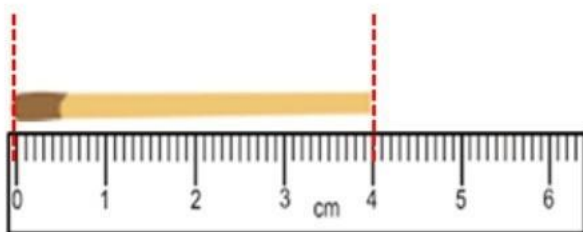
1) Quantos centímetros e milímetros tem cada objeto abaixo? Responda. Siga o exemplo:



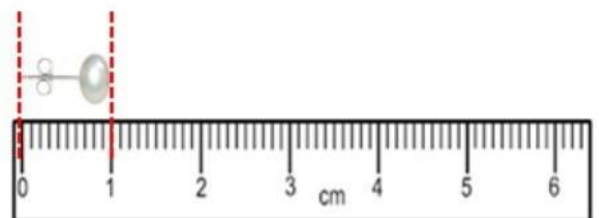
a) borracha – 3 cm ou 30 mm



b) clips – ____ cm ou ____ mm



c) palito de fósforo – ____ cm ou ____ mm



d) brinco – ____ cm ou ____ mm

2) Leia as dicas e complete os quadros com as medidas das alturas de cada criança.

Dicas

- ▶ Fernando é 10 centímetros mais alto que Jair.
- ▶ Jair é 30 centímetros mais alto que Ricardo.

Altura do Jair

1 metro e
20 centímetros

Altura do Fernando

Altura do Ricardo

Retirado de: portaldoprofessor.mec.gov.br

3) Leia a história:



a) Você acha que o macaco é maior que a girafa?

b) Sabendo que 1 metro = 100 centímetros, podemos dizer que o macaco tem de altura:

▶ 1 m e 28 cm

▶ 128 m

▶ 12 m e 8 cm

c) Quantos centímetros tem o rabo do macaco?

d) A girafa tem 3 metros de pescoço. Quantos centímetros têm 3 metros?

▶ 100 cm

▶ 200 cm

▶ 300 cm