

ESCOLA MUNICIPAL COMENDADOR ABDALLA CHIEDDE	
Nome do aluno:	<b>SEMANA 32</b> <b>25 à 29/outubro/2021</b>
Professor: CRISTINA	Turma: 4ºA
Componente Curricular: <b>PROGRAMA SEGUE</b> <b>LÍNGUA PORTUGUESA E MATEMÁTICA</b>	Entrega: foto via zap Realização nas aulas presenciais
(EF04LP14) Identificar, em notícias, fatos, participantes, local e momento/tempo da ocorrência do fato noticiado.	
(EF04MA20) Medir e estimar comprimentos (incluindo perímetros), massas e capacidades, utilizando unidades de medida padronizadas mais usuais, valorizando e respeitando a cultura local.	

## ATIVIDADE DE LÍNGUA PORTUGUESA RESPONDA NO SEU CADERNO DE CLASSE

LEIA A NOTÍCIA ABAIXO.

### Golfinho leva turistas à praia em caraguá

Um golfinho nariz-de-garrafa é uma das atrações do verão em Caraguatatuba. O golfinho, que recebeu o apelido de "Tião", mede 2,60M e tem 200KG. Ele tem levado dezenas de turistas às praias Martin de Sá e Prainha diariamente. Ele é macho, cinza e tem cerca de 15 anos. O assédio dos turistas fez o IBAMA criar um plantão nas duas praias para evitar que os banhistas perturbem o animal.

(Folha de São Paulo, Caderno Folhinha, 13/11/94)

Para saber mais:

IBAMA - Instituto Brasileiro do Meio Ambiente. É um órgão federal responsável pelo meio ambiente. Cuida da preservação, controle, fiscalização e conservação da fauna (animais) e flora (plantas).

RESPONDA NO CADERNO!

1- Sobre o que nos fala esse texto?

2- Dê as informações sobre o golfinho.

a- Apelido

b- Peso

c- Comprimento

d- Cor

e- Idade

3- Que tipo de texto é esse:

( ) Recado

( ) Notícia (jornal)

( ) Cartaz

Você sabe o que é golfinho?


Os golfinhos são mamíferos encontrados em todos os oceanos do mundo e em alguns rios.



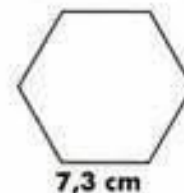

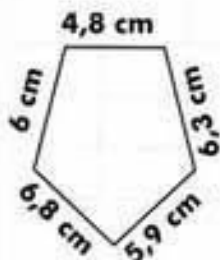
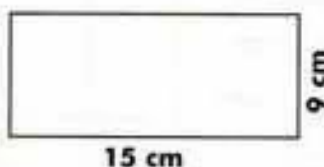
## ATIVIDADE 2 – MATEMÁTICA

# PERÍMETRO

Perímetro é a soma das medidas dos lados de um polígono.



Calcule o perímetro das figuras abaixo:



É com você!

- A) Uma quadra de vôlei tem 23 m de comprimento e 10,5 de largura. Qual é o perímetro dessa quadra?
- B) Qual é o perímetro de um quadrado que tem 3,6 m de lado?
- C) Calcule o perímetro de um retângulo que tem 2,5 m de altura e, de base, o dobro da altura.
- D) Qual é o perímetro de uma sala que tem 3,8 m de comprimento e 2,6 de largura?

- A) Responder individualmente às questões.  
B) apresentar cópia da atividade na escola