

**ESCOLA MUNICIPAL COMENDADOR ABDALLA CHIEDDE**

Nome do aluno:		<b>Semana 32</b>
Professor: Sandra	27/10/2021	Turma: 3ºano A
Componente Curricular: Matemática e Língua Portuguesa		Entrega: através de fotos pelo WhatsApp / Chamada de vídeo pelo Meet.

**ACOLHIDA (CÓPIA DO CABEÇALHO NO CADERNO COM ANOTAÇÕES DAS PÁGINAS TRABALHADAS NOS LIVROS**

**LEITURA SEMANAL: LIVRO QUEM VAI FICAR COM O PÊSSEGO - AH HAE YOON**

**COLOCAREI O LIVRO NO GRUPO**

**ATIVIDADES LIVRO ÁPIS LÍNGUA PORTUGUESA.**

**PÁGINA 252,253 E 254- PARA QUE SERVE A ORDEM ALFABÉTICA.**

**ATIVIDADES DE MATEMÁTICA/ NO CADERNO.**


**A METADE:**

CADA UMA DAS DUAS PARTES IGUAIS (EM PESO, NÚMERO OU EXTENSÃO) DE UM TODO.



SE EU PRECISO SABER QUAL É A METADE DE ALGUM NÚMERO POSSO DIVIDI-LO POR 2. A METADE É CADA UMA DAS PARTES DO RESULTADO.


QUANDO CORTO UMA LARANJA AO MEIO, CADA UMA DE SUAS PARTES É UMA METADE.




1 – PINTA A METADE E COMPLETE:




A metade de 8 é \_\_\_\_\_



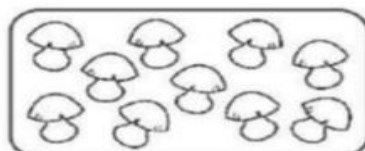
A metade de 4 é \_\_\_\_\_



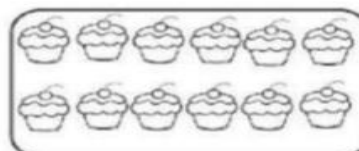
A metade de 2 é \_\_\_\_\_



A metade de 6 é \_\_\_\_\_






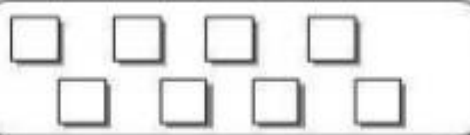



A metade de 10 é \_\_\_\_\_



A metade de 12 é \_\_\_\_\_

**2- COMPLETE COM O QUE ESTÁ FALTANDO:**

QUANTIDADE TOTAL	METADE DA QUANTIDADE
	
	
	
	
	
	

- Circule a metade de cada um dos elementos em cada conjunto abaixo:

