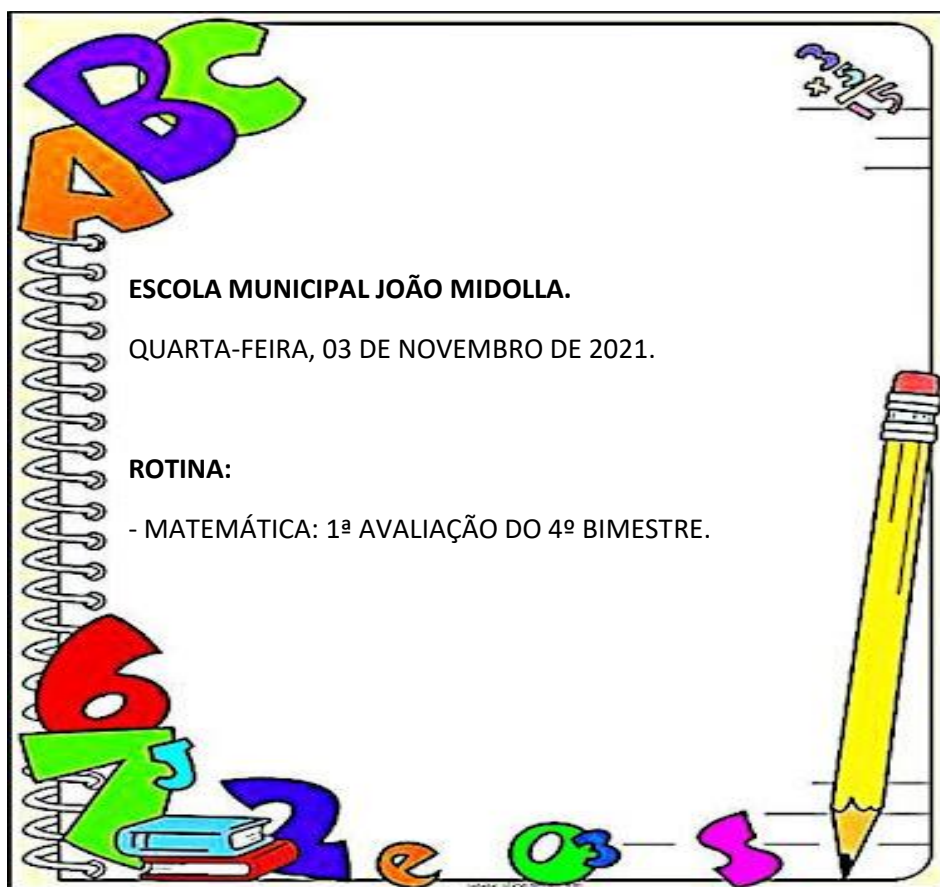


ESCOLA MUNICIPAL JOÃO MIDOLLA

NOME DO ALUNO:	DATA: 03/11/21	SEMANA: 33
PROFESSOR: <i>Erica</i>	TURMA: 5º ANO A	03 a 05/11
COMPONENTE CURRICULAR: MATEMÁTICA	ENTREGAR: 03/11 enviar fotocópia do cartão de resposta para o whatsapp da professora.	



1ª AVALIAÇÃO DE MATEMÁTICA DO 4º BIMESTRE

Escola: _____

Prof: _____

Nome: _____

01	(A)	(B)	(C)	(D)
02	(A)	(B)	(C)	(D)
03	(A)	(B)	(C)	(D)
04	(A)	(B)	(C)	(D)
05	(A)	(B)	(C)	(D)
06	(A)	(B)	(C)	(D)
07	(A)	(B)	(C)	(D)
08	(A)	(B)	(C)	(D)
09	(A)	(B)	(C)	(D)
10	(A)	(B)	(C)	(D)

D25

Em Belo Horizonte, a temperatura máxima de sábado foi de 28,3 graus e a de domingo foi de 26,7 graus.

De quantos graus é a diferença entre as duas temperaturas?

- (A) 1,4
- (B) 1,6
- (C) 2,4
- (D) 2,6

D27

A turma de Joana resolveu fazer uma pesquisa sobre o tipo de filme que as crianças mais gostavam. Cada criança podia votar em um só tipo de filme.

A tabela seguinte mostra o resultado da pesquisa com as meninas e com os meninos.

Tipo de filme	Número de votos	
	Meninas	Meninos
Aventura	6	10
Comédia	7	2
Desenho animado	5	5
Terror	2	4

Qual o tipo de filme preferido pelos meninos?

- (A) Aventura.
- (B) Comédia.
- (C) Desenho animado.
- (D) Terror.

D6

Ao usar uma régua de 20 cm para medir uma mesa, Henrique observou que ela cabia 27 vezes no comprimento da mesa. Ele multiplicou esses valores e encontrou 540 cm.


Em metros, o comprimento da mesa é de

- (A) 0,54.
- (B) 5,4.
- (C) 54.
- (D) 540.

D28

No final do ano os alunos do 5º ano fizeram uma pesquisa na sala para saber onde cada um ia passar as férias. Cada aluno podia escolher um só lugar.

O gráfico mostra o resultado da pesquisa.



Qual dos locais foi o menos escolhido pelos alunos para passarem as férias?

- (A) Casa.
- (B) Fazenda do tio.
- (C) Praia.
- (D) Sítio da vovó.

D1

O desenho a seguir mostra uma estante onde são guardados diversos livros.



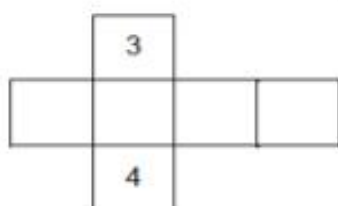
Um aluno está de frente para essa estante.

Nessa posição, o livro de Música é o terceiro a partir de sua:

- (A) esquerda, na prateleira do meio.
- (B) direita, na prateleira de cima.
- (C) esquerda, na prateleira de cima.
- (D) direita, na prateleira do meio.

D2

Os alunos do 5º Ano estão montando um cubo para fazer um dado para a aula de Matemática. Eles utilizam o molde seguinte, onde os números 3 e 4 representam duas de suas faces opostas.



Em um dado a soma dos números em duas faces opostas quaisquer totaliza sempre 7.

Com base no desenho anterior que algarismos deverão estar escritos nas faces em branco?

- (A)

1	2	5	6
---	---	---	---
- (B)

2	1	6	5
---	---	---	---
- (C)

2	5	1	6
---	---	---	---
- (D)

1	2	6	5
---	---	---	---

D24

Sara fez um bolo para seus filhos e o repartiu em 24 pedaços iguais. João comeu 3 pedaços, Pedro comeu 4, Marta comeu 5 e Jorge não comeu nenhum pedaço.

Que parte do bolo foi consumida?

- (A) $\frac{1}{24}$
- (B) $\frac{1}{4}$
- (C) $\frac{1}{3}$
- (D) $\frac{1}{2}$

D21

A professora do 5º Ano, corrigindo as avaliações

$\frac{20}{100}$

da classe, viu que Pedro acertou $\frac{20}{100}$ das questões.

De que outra forma a professora poderia representar essa fração?

- (A) 0,02
- (B) 0,10
- (C) 0,20
- (D) 2,10

D26

Uma professora ganhou ingressos para levar 50% de seus alunos ao circo da cidade. A professora leciona para 36 alunos.

Quantos alunos ela poderá levar?

- (A) 9
- (B) 18
- (C) 24
- (D) 36

D10

Maria, limpando a sua bolsa, encontrou as seguintes notas e moedas:



Quanto Maria tinha na sua bolsa?

- (A) R\$ 9,00
- (B) R\$ 9,90
- (C) R\$ 10,10
- (D) R\$ 10,15

Boa prova!!!

CARTÃO DE RESPOSTAS
MATEMÁTICA – 03/11/2021

	A	B	C	D
01	<input type="checkbox"/>	<input type="checkbox"/>	<input type="checkbox"/>	<input type="checkbox"/>
02	<input type="checkbox"/>	<input type="checkbox"/>	<input type="checkbox"/>	<input type="checkbox"/>
03	<input type="checkbox"/>	<input type="checkbox"/>	<input type="checkbox"/>	<input type="checkbox"/>
04	<input type="checkbox"/>	<input type="checkbox"/>	<input type="checkbox"/>	<input type="checkbox"/>
05	<input type="checkbox"/>	<input type="checkbox"/>	<input type="checkbox"/>	<input type="checkbox"/>
06	<input type="checkbox"/>	<input type="checkbox"/>	<input type="checkbox"/>	<input type="checkbox"/>
07	<input type="checkbox"/>	<input type="checkbox"/>	<input type="checkbox"/>	<input type="checkbox"/>
08	<input type="checkbox"/>	<input type="checkbox"/>	<input type="checkbox"/>	<input type="checkbox"/>
09	<input type="checkbox"/>	<input type="checkbox"/>	<input type="checkbox"/>	<input type="checkbox"/>
10	<input type="checkbox"/>	<input type="checkbox"/>	<input type="checkbox"/>	<input type="checkbox"/>