

ESCOLA MUNICIPAL JOÃO MIDOLLA		
NOME DO ALUNO:	DATA: 19/10/21	SEMANA: 31 18 a 22/10
PROFESSOR: <i>Erica</i>	TURMA: 5º ANO A	
COMPONENTE CURRICULAR: MATEMÁTICA	ENTREGAR: 19/10 enviar fotocópia para o whatsapp da professora.	

⇒ COPIE O CABEÇALHO E A ROTINA NO SEU CADERNO


⇒ **MATEMÁTICA:** copie e responda, no seu caderno.



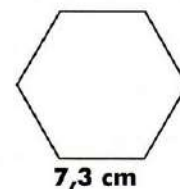
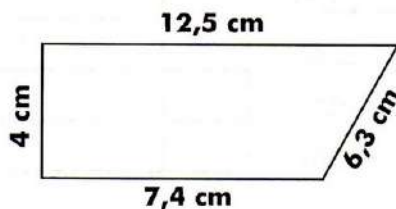
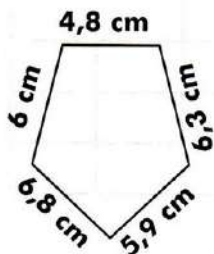
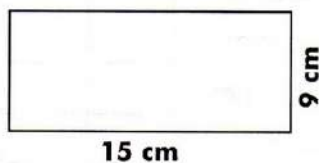
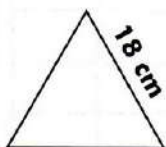
MATEMÁTICA

PERÍMETRO

Perímetro é a soma das medidas dos lados de um polígono.



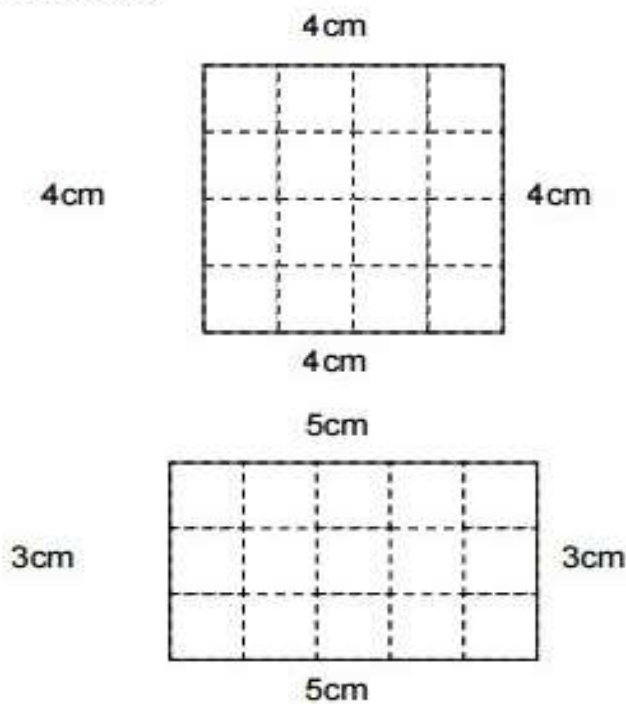
- 1) Calcule o perímetro das figuras abaixo:



✏ É com você!

- A) Uma quadra de vôlei tem 23 m de comprimento e 10,5 de largura. Qual é o perímetro dessa quadra?
- B) Qual é o perímetro de um quadrado que tem 3,6 m de lado?
- C) Calcule o perímetro de um retângulo que tem 2,5 m de altura e, de base, o dobro da altura.
- D) Qual é o perímetro de uma sala que tem 3,8 m de comprimento e 2,6 de largura?

2) Observe as figuras geométricas planas a seguir e depois determine:



- a) o perímetro do quadrado;
- b) o perímetro do retângulo;
- c) o número de quadradinhos de 1cm de lado que compõem o quadrado;
- d) o número de quadradinhos de 1cm de lado que compõem o retângulo.

QUALQUER DÚVIDA ESTOU A
SUA DISPOSIÇÃO