

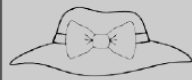

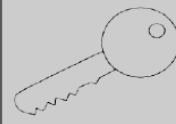







ESCOLA MUNICIPAL JOÃO MIDOLLA.		
Nome do aluno:	Data: 03/11/2021	Semana: 33
Professor: Evilene/ Sandra	Turma: 3º ANO A/B	03/11 A 05/11
Componentes Curriculares: LÍNGUA PORTUGUESA E MATEMÁTICA	Entregar: Diariamente via WhatsApp do professor	
Programa Segue: Atividade de intensificação de aprendizagem	BNCC –(EF03LP03) BNCC – (EF03MA04)	

PORTUGUÊS

1. COMPLETE AS PALAVRAS COM X OU CH.

X OU CH?

 _____ ICLETE	 PEI _____ E
 _____ APÉU	 CA _____ ORRO
 _____ AVE	 ABACA _____ I
 LI _____ EIRA	 BE _____ IGA
 MO _____ ILA	 _____ ÍCARA

AGORA ESCREVA ABAIXO DUAS PALAVRAS COLOCANDO-AS NO QUADRO ADEQUADO.

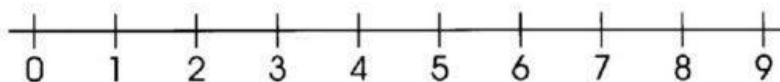
X	CH
_____	_____
_____	_____

MATEMÁTICA

RETA NUMÉRICA



Veja os números nesta reta.



Qual é o:

- a) menor número da reta? _____
- b) maior número da reta? _____
- c) número par que vem depois do 1? _____
- d) número entre o 4 e o 6? _____
- e) maior número par da reta? _____
- f) maior número ímpar da reta? _____

Faça como no exemplo.

Antes	Número	Depois
2		4
		
		
		
		

