


ESCOLA MUNICIPAL JOÃO MIDOLLA.		
Nome do aluno:	Data: 04/11/2021	Semana: 33
Professor: Evilene/ Sueli	Turma: 3º ANO A/B	03/11 A 05/11
Componentes Curriculares: LÍNGUA PORTUGUESA E MATEMÁTICA	Entregar: Diariamente via WhatsApp do professor	

MATEMÁTICA (BNCC –EF03MA27 – EF03MA10 – EF03MA07)

DIAGNÓSTICA DE MATEMÁTICA – 3º ANO- 4º BIMESTRE

1. Guilherme resolveu medir seus lápis de cor utilizando o comprimento de cliques como unidade de medida.



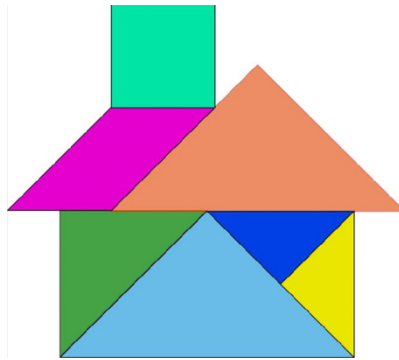
Qual das afirmações sobre as medidas feitas por Guilherme está correta?

- a) O lápis vermelho tem comprimento menor do que três cliques enfileirados.
 - b) O lápis amarelo mede aproximadamente quatro cliques enfileirados.
 - c) O lápis verde tem comprimento maior do que três cliques enfileirados.
 - d) O lápis azul tem comprimento igual ao de dois cliques enfileirados.
2. Rogério é dono de uma padaria. Veja o quadro que foi colocado na parede da padaria, bem ao lado da máquina de café.

Quantas xícaras de café estão desenhadas nesse quadro? _____



3. Entre as peças do tangram que Fernanda usou para montar uma casinha, uma delas lembra uma figura geométrica plana de quatro lados de mesmo comprimento. Qual é essa figura geométrica?



- a) Quadrado.
 b) Paralelogramo.
 c) Triângulo.
 d) Círculo.

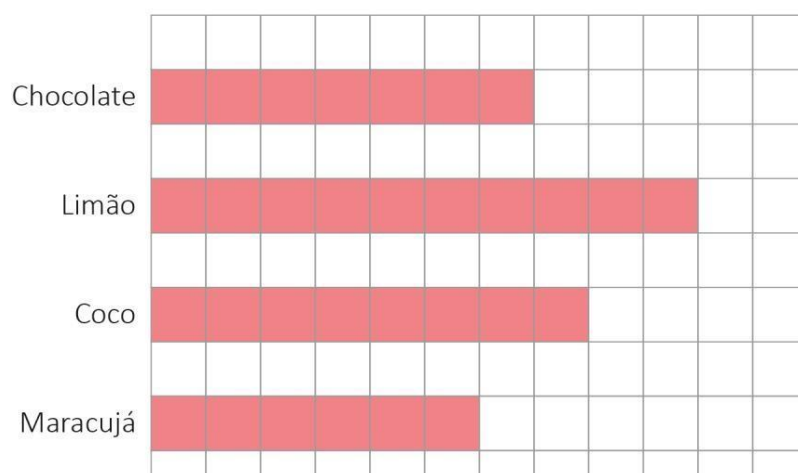
4. Encontre os seguintes resultados das multiplicações abaixo:

Multiplique			
2×3 _____	2×5 _____	2×6 _____	3×8 _____
4×2 _____	5×3 _____	3×7 _____	3×9 _____

5. Observe o gráfico que apresenta as vendas de sorvete no último sábado, na sorveteria Iglu.

Sorveteria Iglu – Vendas de sábado


Sabor do sorvete



De quanto é a diferença entre o número de sorvetes mais vendido e o menos vendido no sábado?

- a) 10
- b) 9
- c) 7
- d) 4

6. A mãe de Suzana comprou **30 pacotinhos** de figurinhas do campeonato brasileiro de futebol para serem **distribuídos igualmente entre Suzana e seus 5 amigos**.



Quantos pacotinhos de figurinhas Suzana receberá?

- a) 30
 - b) 10
 - c) 6
 - d) 5
7. Observe como quatro alunos fizeram a decomposição do número 2 345:
Quem acertou a resposta foi:
- a) Rebeca.
 - b) Antônio.
 - c) Karen.
 - d) Tobias.

- Livro de Português: **Página 196**

Palavras com CH, LH, NH

Encaixe a letra H na posição correta para formar palavras;

Copie as palavras destacadas nas três parlendas e copie-as nas colunas correspondentes.