

Escola Municipal João Midolla

Nome do aluno:	Data: 03 a 05/11	Semana 33
Professor:	Turma: 1º ANO	
Componente Curricular:: PORTUGUÊS/ MATEMÁTICA	Entregar: 05/11	
PROGRAMA SEGUE: Atividade de intensificação da aprendizagem		
Habilidade: (EF01LP07) Identificar fonemas e sua representação por letras.		

PORTUGUÊS

1) CIRCULE DE AZUL AS FIGURAS QUE COMEÇAM COM SOM DE B E DE VERMELHO AS QUE COMEÇAM COM SOM DE P



2) É COM P OU COM B? COMPLETE AS PALAVRAS PRESTANDO ATENÇÃO NOS SONS

 TA□ETE	 RA□O	 RE□OLHO
 CE□OLA	 A□ITO	 RA□ISCO
 CA□ELO	 □ENTE	 □INGO
 □INGO	 □ICHO	 □OLSO
 □AREDE	 URU□U	 ES□ADA
 A□AJOUR	 SA□ONETE	 □ANDA

A - E - I - O - U

3) O SOM DAS VOGAIS: COLOQUE A VOGAL CORREPONDEENTE A CADA SÍLABA DAS FIGURAS ABAIXO. VEJA O EXEMPLO














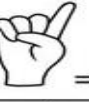


A

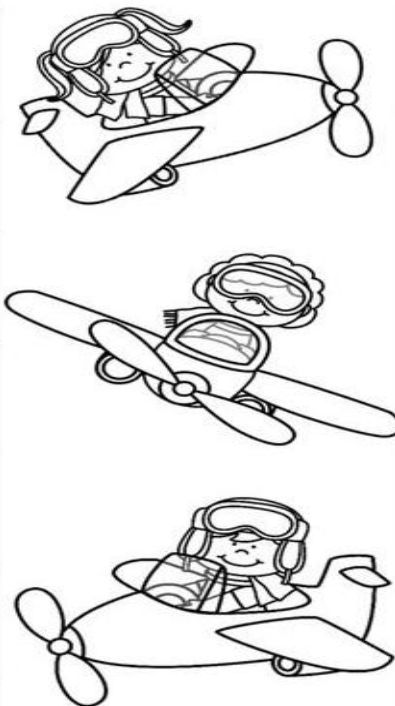
O

















MATEMÁTICA

CONTE E REGISTRE:

	+		=
	+		=
	+		=
	+		=
	+		=
	+		=
	+		=



	-		=
	-		=
	-		=
	-		=
	-		=
	-		=
	-		=