


ESCOLA MUNICIPAL MARIA SIQUEIRA DE PAULA

Nome do aluno:		Semana: 33
Professora: Maria Elizabete Galindo dos Santos Barbosa	Atividade Adaptada	Turmas: 3º Ano 03-11-21
Componente Curricular: Língua Portuguesa	Entrega: Foto/vídeo/ Atividade impressa	
Componente Curricular: Matemática		

PROJETO MATA ATLÂNTICA

9 ERVAS PARA PLANTAR EM ÁGUA
ASSISTA O VÍDEO <https://youtu.be/vSkIxWic8bQ>

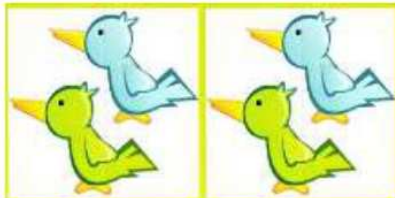
- RODA DA CONVERSA
- FAZER UMA LISTA COM AS ERVAS PLANTADAS EM ÁGUA CITADAS NO VÍDEO.
(PARA FAZER A LISTA, IREMOS ESCREVER OS NOMES DAS ERVAS UTILIZANDO O RECURSO DE LETRAS MÓVEIS E DEPOIS REGISTRAR NO CADERNO).

MATEMÁTICA

MULTIPLICAÇÃO

1-Responda fazendo multiplicação.

a)Quantos passarinhos há ao todo?



_____ × _____ = _____



b)Quantas borboletas há ao todo?




_____ × _____ = _____

c)Quantos sorvete há ao todo?



_____ × _____ = _____

ESCOLA MUNICIPAL MARIA SIQUEIRA DE PAULA

Nome do aluno:		Semana: 33
Professora: Maria Elizabete Galindo dos Santos Barbosa	Atividade Adaptada	Turmas: 3º Ano 04-11-21
Componente Curricular: Língua Portuguesa	Entrega: Foto/vídeo/ Atividade impressa	
Componente Curricular:		

PROJETO MATA ATLÂNTICA

9 ERVAS PARA PLANTAR EM ÁGUA

ASSISTA O VÍDEO NOVAMENTE <https://youtu.be/vSkIxWic8bQ>


SERÁ! QUE PLANTAR EM ÁGUA VAI DAR CERTO?

VAMOS PLANTAR A HORTELÃ!

EM UMA FOLHA DE SULFITE ILUSTRE O PASSO A PASSO PARA SE PLANTAR A HORTELÃ.

MATEMÁTICA DIVISÃO

AO TODO SÃO 10 MAÇÃS. SE EU DIVIDIR PARA DUAS CRIANÇAS.




Desenhe!



CADA CRIANÇA RECEBERÁ _____ MAÇÃS.

MAMÃE COMPROU 12 PERAS E DEU A METADE PARA A TITIA.




Desenhe!



TITIA GANHOU _____ PERAS.

ESCOLA MUNICIPAL MARIA SIQUEIRA DE PAULA

Nome do aluno:		Semana: 33
Professora: Maria Elizabete Galindo dos Santos Barbosa	Atividade Adaptada	Turmas: 3º Ano 05-11-21
Componente Curricular: Língua Portuguesa	Entrega: Foto/vídeo/ Atividade impressa	
Componente Curricular: Matemática		

LÍNGUA PORTUGUESA E MATEMÁTICA

MUNDO BITA - NATUREZA SEMPRE SE TRANSFORMA
OUÇA A MÚSICA <https://youtu.be/ntReWqrlYbE>

- FAÇA UMA ILUSTRAÇÃO DA MÚSICA

MULTIPLICAÇÃO


1) COMPLETE PARA CALCULAR O TOTAL

A. QUANTOS LÁPIS TEM NO TOTAL?

ADIÇÃO: + + =

MULTIPLICAÇÃO: x =

TOTAL DE LÁPIS:

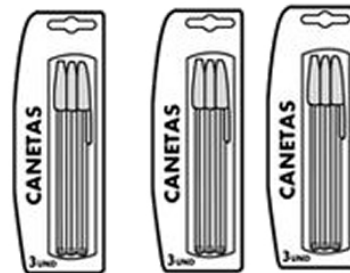


B. QUANTAS CANETAS TEM NO TOTAL?

ADIÇÃO: + + =

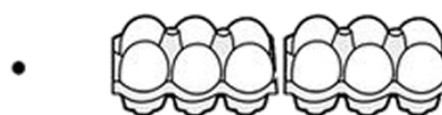
MULTIPLICAÇÃO: x =

TOTAL DE LÁPIS:



2) LIGUE CADA MULTIPLICAÇÃO COM A FIGURA CORRESPONDENTE

4 X 3 •



2 X 2 •



6 X 2 •

