


ESCOLA MUNICIPAL MARIA SIQUEIRA DE PAULA

Nome do aluno:		Semana:33
Professora: Celene	SEGUE Atividade de intensificação da aprendizagem 03 a 05/11/2021	Turmas: 1º Ano
Componente Curricular: Língua Portuguesa	Entrega: Foto/vídeo/ Atividade impressa	
Componente Curricular: Matemática		

PROJETO MATA ATLÂNTICA

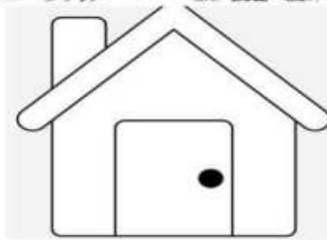
LÍNGUA PORTUGUESA

ATIVIDADE 1- OBSERVE AS IMÁGENS E PINTE. AGORA COMPLETE AS PALAVRAS COM AS VOGAIS QUE ESTÃO FALTANDO

N _ T _ R _ Z _



C _ S _



_ N _ M _ _ S

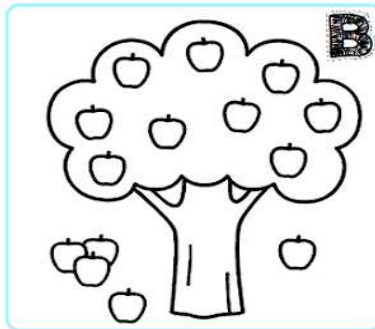



_ R V _ R _ S



P _ S S _ _ S





NA ÁRVORE "A" TEM _____ MAÇÃS.

NA ÁRVORE "B" TEM _____ MAÇÃS.

NA ÁRVORE "C" TEM _____ MAÇÃS.

A ÁRVORE COM **MAIS** MAÇÃS É:

() A () B () C

A ÁRVORE QUE TEM **MENOS** MAÇÃS
NO CHÃO É:

() A () B () C

- RISQUE TODAS AS MAÇÃS DA
ÁRVORE **A**.

- RISQUE A MESMA QUANTIDADE
NA ÁRVORE **B**.

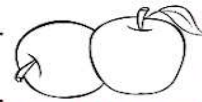
* QUANTAS MAÇÃS A ÁRVORE **B**
TEM A MAIS QUE A ÁRVORE **A**? 


QUANTAS MAÇÃS NO
CHÃO?

A → _____

B → _____

C → _____



ADICIONE TODAS AS
MAÇÃS QUE ESTÃO
NO CHÃO E REGISTRE
O RESULTADO. 

A ÁRVORE **C** TEM:

() UMA DEZENA DE
MAÇÃS.

() UMA DÚZIA DE
MAÇÃS.